

Esercizi di Analisi Matematica

Serie di funzioni

Tommaso Isola*

November 30, 2009

Contents

1	Successioni di funzioni	2
1.1	Teoria	2
1.2	Esercizi svolti	4
1.3	Esercizi proposti	6
2	Serie di funzioni	7
2.1	Teoria	7
2.2	Esercizi svolti	8
2.3	Esercizi proposti	12
3	Serie di potenze	13
3.1	Teoria generale	13
3.2	Serie di Taylor e funzioni analitiche	15
3.3	Esercizi svolti	18
3.4	Esercizi proposti	22
4	Serie di Fourier	23
4.1	Teoria	23
4.2	Esercizi svolti	27
4.3	Esercizi proposti	39

*Dipartimento di Matematica, Università di Roma “Tor Vergata”, I-00133 Roma, Italy.

1 Successioni di funzioni

1.1 Teoria

Definizione 1.1. Siano $A \subset \mathbb{R}$, $f_n : A \rightarrow \mathbb{R}$, $n \in \mathbb{N}$, $f : A \rightarrow \mathbb{R}$. Si dice che $\{f_n\}$ converge puntualmente ad f in A se, per ogni $x \in A$, $\varepsilon > 0$, esiste $n_{\varepsilon, x} \in \mathbb{N}$ tale che, per ogni $n > n_{\varepsilon, x}$, si ha $|f_n(x) - f(x)| < \varepsilon$. Si indica $f_n \rightarrow f$.

Definizione 1.2. Siano $A \subset \mathbb{R}$, $f_n : A \rightarrow \mathbb{R}$, $n \in \mathbb{N}$, $f : A \rightarrow \mathbb{R}$. Si dice che $\{f_n\}$ converge uniformemente ad f in A se, per ogni $\varepsilon > 0$, esiste $n_\varepsilon \in \mathbb{N}$ tale che, per ogni $n > n_\varepsilon$, si ha $|f_n(x) - f(x)| < \varepsilon$, per ogni $x \in A$. Si indica $f_n \rightrightarrows f$.

Osservazione 1.3. Osserviamo che la definizione di convergenza uniforme si può anche formulare così: per ogni $\varepsilon > 0$, esiste $n_\varepsilon \in \mathbb{N}$ tale che, per ogni $n > n_\varepsilon$, si ha $\sup_{x \in A} |f_n(x) - f(x)| < \varepsilon$.

Esempi 1.4. Vediamo alcuni esempi nei quali alcune proprietà di una successione di funzioni puntualmente convergente non valgono per la funzione limite.

(1) $\{f_n\} \subset C^0[a, b]$, $f_n \rightarrow f \not\Rightarrow f \in C^0[a, b]$.

Sia $f_n(x) := x^n$, $x \in [0, 1]$. Allora $f(x) := \lim_{n \rightarrow \infty} f_n(x) = \begin{cases} 0, & 0 \leq x < 1, \\ 1, & x = 1, \end{cases}$ e $f \notin C^0[0, 1]$.

(2) $\{f_n\} \subset \mathcal{R}[a, b]$, $f_n \rightarrow f$, $f \in \mathcal{R}[a, b] \not\Rightarrow \int_a^b f_n \rightarrow \int_a^b f$.

Sia $f_n(x) := nx(1-x^2)^n$, $x \in [0, 1]$. Allora $f(x) := \lim_{n \rightarrow \infty} f_n(x) = \begin{cases} 0, & x = 0, [\text{perché } f_n(0) = 0], \\ 0, & 0 < x \leq 1, [\text{perché } (1-x^2)^n \rightarrow 0]. \end{cases}$

Inoltre $\int_0^1 f_n(x) dx = n \int_0^1 x(1-x^2)^n dx \stackrel{(a)}{=} n \int_1^0 y^n (-\frac{1}{2}) dy = \frac{n}{2} \int_0^1 y^n dy = \frac{n}{2} [\frac{y^{n+1}}{n+1}]_0^1 = \frac{1}{2} \frac{n}{n+1} \rightarrow \frac{1}{2}$ [in (a) si è eseguito il cambio di variabile $y = 1 - x^2$], mentre $\int_0^1 f(x) dx = 0 \neq \frac{1}{2}$.

(3) $\{f_n\}$ derivabili in (a, b) , $f_n \rightarrow f$, f derivabile in $(a, b) \not\Rightarrow f'_n \rightarrow f'$.

Sia $f_n(x) := \frac{1}{n} \sin(nx)$, $x \in (-\frac{\pi}{2}, \frac{\pi}{2})$. Allora $f(x) := \lim_{n \rightarrow \infty} f_n(x) = 0$, per ogni $x \in (-\frac{\pi}{2}, \frac{\pi}{2})$.

Inoltre $f'_n(x) = \cos(nx)$, $x \in (-\frac{\pi}{2}, \frac{\pi}{2})$, e $\lim_{n \rightarrow \infty} f'_n(x) = \begin{cases} 1, & x = 0, \\ \bar{A}, & x \in (-\frac{\pi}{2}, 0) \cup (0, \frac{\pi}{2}), \end{cases}$ mentre $f'(x) = 0$, per ogni $x \in (-\frac{\pi}{2}, \frac{\pi}{2})$.

Proposizione 1.5 (Criterio di convergenza puntuale). Siano $A \subset \mathbb{R}$, $f_n : A \rightarrow \mathbb{R}$, $n \in \mathbb{N}$. Allora $\{f_n\}$ converge puntualmente in $A \iff$ per ogni $x \in A$, $\varepsilon > 0$, esiste $n_{\varepsilon, x} \in \mathbb{N}$ tale che, per ogni $m, n \in \mathbb{N}$, $m, n > n_{\varepsilon, x}$, si ha $|f_m(x) - f_n(x)| < \varepsilon$.

Dim. (\implies) Siano $x \in A$, $\varepsilon > 0$, e sia $n_{\varepsilon, x} \in \mathbb{N}$ tale che, per ogni $n > n_{\varepsilon, x}$, si ha $|f_n(x) - f(x)| < \varepsilon$. Allora, per ogni $m, n \in \mathbb{N}$, $m, n > n_{\varepsilon, x}$, si ha $|f_m(x) - f_n(x)| \leq |f_m(x) - f(x)| + |f_n(x) - f(x)| < 2\varepsilon$. (\impliedby) Per ogni $x \in A$, $\{f_n(x)\}$ è di Cauchy, e quindi esiste $f(x) := \lim_{n \rightarrow \infty} f_n(x)$. \square

Proposizione 1.6 (Criterio di convergenza uniforme). Siano $A \subset \mathbb{R}$, $f_n : A \rightarrow \mathbb{R}$, $n \in \mathbb{N}$. Allora $\{f_n\}$ converge uniformemente in $A \iff$ per ogni $\varepsilon > 0$, esiste $n_\varepsilon \in \mathbb{N}$ tale che, per ogni $m, n \in \mathbb{N}$, $m, n > n_\varepsilon$, si ha $|f_m(x) - f_n(x)| < \varepsilon$, per ogni $x \in A$.

Dim. (\implies) Sia $\varepsilon > 0$, e sia $n_\varepsilon \in \mathbb{N}$ tale che, per ogni $n > n_\varepsilon$, si ha $|f_n(x) - f(x)| < \varepsilon$, per ogni $x \in A$. Allora, per ogni $m, n \in \mathbb{N}$, $m, n > n_\varepsilon$, si ha $|f_m(x) - f_n(x)| \leq |f_m(x) - f(x)| + |f_n(x) - f(x)| < 2\varepsilon$, per ogni $x \in A$.

(\Leftarrow) Per ogni $x \in A$, $\{f_n(x)\}$ è di Cauchy, e quindi esiste $f(x) := \lim_{n \rightarrow \infty} f_n(x)$. Dimostriamo che la convergenza è uniforme. Infatti, per ogni $\varepsilon > 0$, esiste $n_\varepsilon \in \mathbb{N}$ tale che, per ogni $m, n \in \mathbb{N}$, $m, n > n_\varepsilon$, si ha $|f_m(x) - f_n(x)| < \frac{\varepsilon}{2}$, per ogni $x \in A$. Passando al limite per $m \rightarrow \infty$ si ha $|f(x) - f_n(x)| \leq \frac{\varepsilon}{2} < \varepsilon$, per ogni $x \in A$, $n > n_\varepsilon$, cioè la tesi. \square

Proposizione 1.7. Siano $A \subset \mathbb{R}$, $f_n : A \rightarrow \mathbb{R}$ limitata, per ogni $n \in \mathbb{N}$, $f_n \rightrightarrows f$ in A . Allora $f : A \rightarrow \mathbb{R}$ è limitata.

Esempio 1.8. Se la convergenza non è uniforme, la tesi della Proposizione 1.7 può non valere.

Ad esempio, se $f_n(x) := \begin{cases} n, & 0 < x < \frac{1}{n}, \\ \frac{1}{x}, & \frac{1}{n} \leq x \leq 1, \end{cases}$ allora $f(x) := \lim_{n \rightarrow \infty} f_n(x) = \frac{1}{x}$, $x \in (0, 1]$, mentre $\sup_{x \in (0, 1]} |f_n(x) - f(x)| = \sup_{x \in (0, \frac{1}{n})} |\frac{1}{x} - n| = +\infty$, e quindi $f_n \not\rightrightarrows f$. Osserviamo che f_n è limitata in $(0, 1]$, per ogni $n \in \mathbb{N}$, in quanto $\sup_{x \in (0, 1]} |f_n(x)| = n < \infty$, mentre f è illimitata in $(0, 1]$, in quanto $\sup_{x \in (0, 1]} |f(x)| = +\infty$.

Proposizione 1.9 (Limite uniforme di funzioni continue). Siano $A \subset \mathbb{R}$, $\{f_n\} \subset C^0(A)$, $f_n \rightrightarrows f$ in A . Allora $f \in C^0(A)$.

Dim. Sia $x_0 \in A$ un punto di accumulazione di A . Siano $\varepsilon > 0$, e $n_\varepsilon \in \mathbb{N}$ tale che $\sup_{x \in A} |f_n(x) - f(x)| < \varepsilon$, per ogni $n > n_\varepsilon$. Sia $n_0 := n_\varepsilon + 1$, e sia $\delta_\varepsilon > 0$ tale che $|x - x_0| < \delta_\varepsilon \implies |f_{n_0}(x) - f_{n_0}(x_0)| < \varepsilon$. Allora, per ogni $x \in A$ tale che $|x - x_0| < \delta_\varepsilon$, si ha $|f(x) - f(x_0)| \leq |f(x) - f_{n_0}(x)| + |f_{n_0}(x) - f_{n_0}(x_0)| + |f_{n_0}(x_0) - f(x_0)| < 3\varepsilon$, da cui segue la tesi. \square

Esempio 1.10. Se la convergenza non è uniforme, la tesi della Proposizione 1.9 può non valere.

Ad esempio, sia $f_n(x) := x^n$, $x \in [0, 1]$. Allora $f(x) := \lim_{n \rightarrow \infty} f_n(x) = \begin{cases} 0, & 0 \leq x < 1, \\ 1, & x = 1, \end{cases}$ ma $\sup_{x \in [0, 1]} |f_n(x) - f(x)| = 1 \not\rightarrow 0$, cioè $f_n \not\rightrightarrows f$. Si ha $\{f_n\} \subset C^0[0, 1]$, e $f \notin C^0[0, 1]$.

Proposizione 1.11 (Scambio del limite con la derivata). Siano $f_n : (a, b) \rightarrow \mathbb{R}$ derivabile, per ogni $n \in \mathbb{N}$, $f_n' \rightrightarrows g$ in (a, b) , ed esiste $x_0 \in (a, b)$ tale che $\{f_n(x_0)\}$ converge. Allora

- (1) esiste $f : (a, b) \rightarrow \mathbb{R}$ tale che $f_n \rightrightarrows f$ in (a, b) ,
- (2) f è derivabile in (a, b) e $f' = g$.
Cioè, $\lim_{n \rightarrow \infty} \frac{d}{dx} f_n(x) = \frac{d}{dx} \lim_{n \rightarrow \infty} f_n(x)$, per ogni $x \in (a, b)$.

Proposizione 1.12. Siano $\{f_n\} \subset C^1(a, b)$, $f_n' \rightrightarrows g$ in (a, b) , ed esiste $x_0 \in (a, b)$ tale che $\{f_n(x_0)\}$ converge. Allora esiste $f \in C^1(a, b)$ tale che $f_n \rightrightarrows f$ in (a, b) .

Dim. Segue dalla Proposizione 1.11. \square

Proposizione 1.13 (Scambio del limite con l'integrale). Siano $\{f_n\} \subset \mathcal{R}[a, b]$, $f_n \rightrightarrows f$ in $[a, b]$.

Allora $f \in \mathcal{R}[a, b]$ e $\int_a^b f_n \rightarrow \int_a^b f$.

Cioè, $\lim_{n \rightarrow \infty} \int_a^b f_n(x) dx = \int_a^b \lim_{n \rightarrow \infty} f_n(x) dx$.

1.2 Esercizi svolti

Esercizio 1. Studiare la convergenza (puntuale e uniforme) della seguente successione di funzioni $f_n(x) = \sqrt{(n+1)x} - \sqrt{nx}$, $x \in [0, 2]$.

Svolgimento. Osserviamo che $f(x) := \lim_{n \rightarrow \infty} f_n(x) = 0$, per ogni $x \in [0, 2]$ [perché, $f_n(0) = 0$, mentre, per $x \in (0, 2]$, si ha $f_n(x) = (\sqrt{n+1} - \sqrt{n})\sqrt{x} = \frac{\sqrt{x}}{\sqrt{n+1} + \sqrt{n}} \rightarrow 0$]. Si ha $\|f_n - f\| = \sup_{x \in [0, 2]} f_n(x) = \sup_{x \in [0, 2]} \frac{\sqrt{x}}{\sqrt{n+1} + \sqrt{n}} = \frac{\sqrt{2}}{\sqrt{n+1} + \sqrt{n}} \rightarrow 0$, per cui $f_n \rightarrow 0$ uniformemente in $[0, 2]$. \square

Esercizio 2. Studiare la convergenza (puntuale e uniforme) della seguente successione di funzioni $f_n(x) = \frac{x}{1+nx}$, $x \in [0, 1]$.

Svolgimento. Osserviamo che $f(x) := \lim_{n \rightarrow \infty} f_n(x) = 0$, per ogni $x \in [0, 1]$. Inoltre si ha $\|f_n - f\| = \sup_{x \in [0, 1]} |f_n(x) - f(x)| = f_n(1) = \frac{1}{1+n} \rightarrow 0$, in quanto $f'_n(x) = \frac{1+nx-nx}{(1+nx)^2} > 0$. Quindi $f_n \rightarrow 0$ uniformemente in $[0, 1]$. \square

Esercizio 3. Studiare la convergenza (puntuale e uniforme) della seguente successione di funzioni $f_n(x) = \frac{1}{1+nx}$, $x \in [0, \infty)$.

Svolgimento. Osserviamo che $f(x) := \lim_{n \rightarrow \infty} f_n(x) = \begin{cases} 1, & x = 0 \\ 0, & x > 0. \end{cases}$ Poiché le f_n sono continue su $[0, \infty)$, mentre f non è continua su $[0, \infty)$, la convergenza non può essere uniforme. Più direttamente, poiché $|f_n(x) - f(x)| = \begin{cases} 0, & x = 0 \\ \frac{1}{1+nx}, & x > 0, \end{cases}$ si ha $\|f_n - f\| = \sup_{x \geq 0} |f_n(x) - f(x)| = 1 \not\rightarrow 0$. \square

Esercizio 4. Studiare la convergenza (puntuale e uniforme) della seguente successione di funzioni $f_n(x) = \frac{nx}{1+n^2x^2}$, $x \in \mathbb{R}$.

Svolgimento. Osserviamo che $f(x) := \lim_{n \rightarrow \infty} f_n(x) = 0$, per ogni $x \in \mathbb{R}$. Poiché $f'_n(x) =$

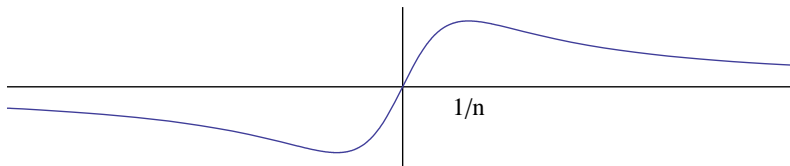


Figure 1: Grafico per l'esercizio 4

$\frac{n(n^2x^2+1)-2n^2x \cdot nx}{(1+n^2x^2)^2} = \frac{n(1-n^2x^2)}{(1+n^2x^2)^2} \geq 0 \iff |x| \leq \frac{1}{n}$, si ha $\|f_n - f\| = \sup_{x \in \mathbb{R}} |f_n(x)| = f_n(\frac{1}{n}) = \frac{1}{2} \not\rightarrow 0$, per cui $f_n \not\rightarrow 0$ uniformemente in \mathbb{R} . \square

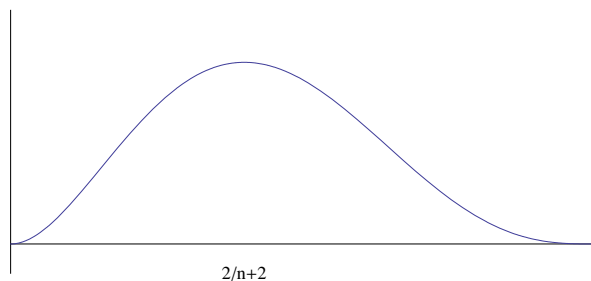


Figure 2: Grafico per l'esercizio 5

Esercizio 5. Studiare la convergenza (puntuale e uniforme) della seguente successione di funzioni $f_n(x) = n^2 x^2 (1-x)^n$, $x \in [0, 1]$.

Svolgimento. Osserviamo che $f(x) := \lim_{n \rightarrow \infty} f_n(x) = 0$, per ogni $x \in [0, 1]$. Poiché $f'_n(x) = n^2(2x(1-x)^n - nx^2(1-x)^{n-1}) = n^2x(1-x)^{n-1}(2-2x-nx) \geq 0 \iff x \leq \frac{2}{n+2}$, si ha $\|f_n - f\| = \sup_{x \in [0,1]} f_n(x) = f_n(\frac{2}{n+2}) = n^2 \frac{4}{(n+2)^2} \left(\frac{n}{n+2}\right)^n \rightarrow \frac{4}{e^2} \neq 0$, per cui $f_n \not\rightarrow 0$ uniformemente in $[0, 1]$. \square

Esercizio 6. Studiare la convergenza (puntuale e uniforme) della seguente successione di funzioni $f_n(x) = (1-x)x^n$, $x \in [0, 1]$.

Svolgimento. Osserviamo che $f(x) := \lim_{n \rightarrow \infty} f_n(x) = 0$, per ogni $x \in [0, 1]$. Poiché $f'_n(x) =$

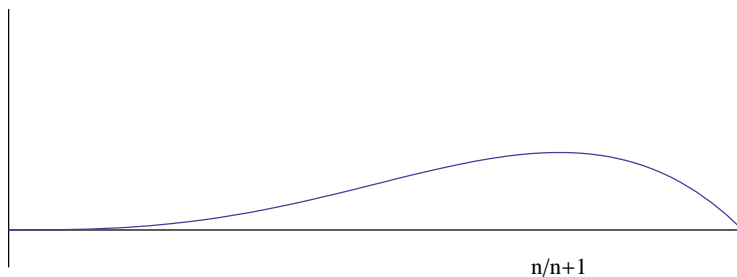


Figure 3: Grafico per l'esercizio 6

$nx^{n-1} - (n+1)x^n = x^{n-1}(n - (n+1)x) \geq 0 \iff x \leq \frac{n}{n+1}$, si ha $\|f_n - f\| = \sup_{x \in [0,1]} f_n(x) = f_n(\frac{n}{n+1}) = \frac{1}{n+1} \left(\frac{n}{n+1}\right)^n \rightarrow 0$, per cui $f_n \rightarrow 0$ uniformemente in $[0, 1]$. \square

Esercizio 7. Studiare la convergenza (puntuale e uniforme) della seguente successione di funzioni $f_n(x) = \frac{n\sqrt[3]{x}}{1+n^2x^2}$, $x \in [1, \infty)$.

Svolgimento. Osserviamo che $f(x) := \lim_{n \rightarrow \infty} f_n(x) = \lim_{n \rightarrow \infty} \frac{1+o(1)}{nx^{5/3}} = 0$, per ogni $x \in [1, \infty)$. Si ha $\|f_n - f\| = \sup_{x \in [1, \infty)} f_n(x) \leq \sup_{x \in [1, \infty)} \frac{n\sqrt[3]{x}}{n^2x^2} = \frac{1}{n} \rightarrow 0$, per cui $f_n \rightarrow 0$ uniformemente in $[1, \infty)$. \square

Esercizio 8. Studiare la convergenza (puntuale e uniforme) della seguente successione di funzioni

$$f_n(x) = \sqrt{\sin^2 x + \frac{1}{n^2}}, \quad x \in \mathbb{R}.$$

Svolgimento. Osserviamo che $f(x) := \lim_{n \rightarrow \infty} f_n(x) = |\sin x|$, per ogni $x \in \mathbb{R}$. Inoltre si ha $\|f_n - f\| = \sup_{x \in \mathbb{R}} [f_n(x) - f(x)] = \sup_{x \in \mathbb{R}} \frac{\frac{1}{n^2}}{\sqrt{\sin^2 x + \frac{1}{n^2}} + |\sin x|} \leq \sup_{x \in \mathbb{R}} \frac{1/n^2}{1/n} = \frac{1}{n} \rightarrow 0$, per cui $f_n \rightarrow f$ uniformemente in \mathbb{R} . \square

Esercizio 9. Studiare la convergenza (puntuale e uniforme) della seguente successione di funzioni

$$f_n(x) = \frac{1+x}{x^n + n^2}, \quad x \in [0, \infty).$$

Svolgimento. Osserviamo che $f(x) := \lim_{n \rightarrow \infty} f_n(x) = 0$, per ogni $x \in [0, \infty)$. Inoltre si ha $\sup_{x \in [0, 2]} f_n(x) \leq \frac{3}{n^2}$, e $\sup_{x \in [2, \infty)} f_n(x) \leq \frac{1}{2^n} + \frac{1}{2^{n-1}} = \frac{3}{2^{n-1}}$, per cui $\|f_n - f\| = \sup_{x \in [0, \infty)} f_n(x) \leq \max\left\{\frac{3}{n^2}, \frac{3}{2^{n-1}}\right\} \rightarrow 0$, per cui $f_n \rightarrow f$ uniformemente in \mathbb{R} . \square

Esercizio 10. Studiare la convergenza (puntuale e uniforme) della seguente successione di funzioni

$$f_n(x) = \frac{x^n + x^{2n}}{1 + x^{3n}}, \quad x \in [0, 1]. \text{ Dire se la successione } \{f_n\} \text{ converge uniformemente in } [0, \frac{1}{2}].$$

Svolgimento. Osserviamo che, per ogni $x \in [0, 1)$, si ha $f(x) := \lim_{n \rightarrow \infty} f_n(x) = \lim_{n \rightarrow \infty} x^n(1 + o(1)) = 0$, mentre $f_n(1) = 1$, per cui f non è continua su $[0, 1]$, e quindi $f_n \not\rightarrow f$, uniformemente in $[0, 1]$. Infine $\sup_{x \in [0, \frac{1}{2}]} f_n(x) \leq \sup_{x \in [0, \frac{1}{2}]} x^n(1 + x^n) \leq \left(\frac{1}{2}\right)^n \left(1 + \left(\frac{1}{2}\right)^n\right) \rightarrow 0$, e quindi $f_n \rightarrow f$, uniformemente in $[0, \frac{1}{2}]$. \square

1.3 Esercizi proposti

Esercizio 11. Studiare la convergenza (puntuale e uniforme) delle seguenti successioni di funzioni, negli intervalli specificati

(1) $f_n(x) = \frac{\log(x^{2n})}{(1+x)^{2n}}$, in $(0, 1]$, o in $[\frac{1}{2}, 1]$,

(2) $f_n(x) = \begin{cases} x^n \sin\left(\frac{1}{x^n}\right) & 0 < x < \frac{1}{\sqrt[n]{\pi}} \\ 0 & \text{altrove,} \end{cases}$ in \mathbb{R} ,

(3) $f_n(x) = \frac{x^n \sin(nx)}{n^{x+1}}$, in $[0, 1]$,

(4) $f_n(x) = x^n \log(x^n)$, in $(0, 1]$, o in $(0, \frac{1}{2}]$,

(5) $f_n(x) = \frac{\arctg(x^n)}{n}$, in \mathbb{R} ,

(6) $f_n(x) = \left(1 + \frac{x}{n}\right)^{n^2}$, in $[-1, 0]$,

(7) $f_n(x) = \left(\log\left(1 + \frac{1}{x}\right)\right)^n$, in $(0, 1]$ o in $[\frac{1}{2}, 1]$.

2 Serie di funzioni

2.1 Teoria

Definizione 2.1. Siano $A \subset \mathbb{R}$, $f_n : A \rightarrow \mathbb{R}$, $n \in \mathbb{N}$, $f : A \rightarrow \mathbb{R}$. Si dice che $\sum_{k=1}^{\infty} f_k$ converge puntualmente ad f in A se $\sum_{k=1}^n f_k$ converge puntualmente ad f .

Definizione 2.2. Siano $A \subset \mathbb{R}$, $f_n : A \rightarrow \mathbb{R}$, $n \in \mathbb{N}$, $f : A \rightarrow \mathbb{R}$. Si dice che $\sum_{k=1}^{\infty} f_k$ converge uniformemente ad f in A se $\sum_{k=1}^n f_k$ converge uniformemente ad f .

Proposizione 2.3. Siano $A \subset \mathbb{R}$, $f_n : A \rightarrow \mathbb{R}$, $n \in \mathbb{N}$, $f : A \rightarrow \mathbb{R}$. Allora

- (1) $\sum_{k=1}^{\infty} f_k$ converge puntualmente ad f in $A \iff$ per ogni $x \in A$, $\varepsilon > 0$, esiste $n_{\varepsilon, x} \in \mathbb{N}$ tale che, per ogni $m, n \in \mathbb{N}$, $m > n > n_{\varepsilon, x}$, si ha $|\sum_{k=n}^m f_k(x)| < \varepsilon$,
- (2) $\sum_{k=1}^{\infty} f_k$ converge uniformemente ad f in $A \iff$ per ogni $\varepsilon > 0$, esiste $n_{\varepsilon} \in \mathbb{N}$ tale che, per ogni $m, n \in \mathbb{N}$, $m > n > n_{\varepsilon}$, si ha $\sup_{x \in A} |\sum_{k=n}^m f_k(x)| < \varepsilon$.

Dim. (1) Segue dalla Proposizione 1.5.

(2) Segue dalla Proposizione 1.6. □

Proposizione 2.4. Siano $A \subset \mathbb{R}$, $f_n : A \rightarrow \mathbb{R}$, $n \in \mathbb{N}$, $f : A \rightarrow \mathbb{R}$. Allora

- (1) $\sum_{k=1}^{\infty} f_k$ converge puntualmente ad f in $A \implies f_n \rightarrow 0$ puntualmente in A ,
- (2) $\sum_{k=1}^{\infty} f_k$ converge uniformemente ad f in $A \implies f_n \rightrightarrows 0$ in A .

Dim. Segue dalla Proposizione 2.3. □

Proposizione 2.5 (Criterio di Weierstrass). Siano $A \subset \mathbb{R}$, $f_n : A \rightarrow \mathbb{R}$, $n \in \mathbb{N}$, $M_n := \sup_A |f_n| < \infty$, e $\sum_{k=1}^{\infty} M_k < \infty$. Allora $\sum_{k=1}^{\infty} f_k$ converge uniformemente in A .

Dim. Siano $\varepsilon > 0$ e $n_{\varepsilon} \in \mathbb{N}$ tale che, per ogni $m, n \in \mathbb{N}$, $m > n > n_{\varepsilon}$, si ha $\sum_{k=n}^m M_k < \varepsilon$. Allora, per ogni $x \in A$, si ha $|\sum_{k=n}^m f_k(x)| \leq \sum_{k=n}^m |f_k(x)| \leq \sum_{k=n}^m \sup_{x \in A} |f_k(x)| = \sum_{k=n}^m M_k < \varepsilon$, e la tesi segue dalla Proposizione 1.6. □

Proposizione 2.6 (Scambio di limite e serie). Siano $A \subset \mathbb{R}$, $\sum_{k=1}^{\infty} f_k$ converge uniformemente ad f in A , x_0 punto di accumulazione di A , ed esiste $\lim_{x \rightarrow x_0} f_n(x) =: L_n \in \mathbb{R}$, per ogni $n \in \mathbb{N}$. Allora

- (1) $\sum_{k=1}^{\infty} L_k =: L \in \mathbb{R}$,
- (2) esiste $\lim_{x \rightarrow x_0} f(x) = L$.
Cioè, $\lim_{x \rightarrow x_0} \sum_{k=1}^{\infty} f_k(x) = \sum_{k=1}^{\infty} \lim_{x \rightarrow x_0} f_k(x)$.

Proposizione 2.7. Siano $A \subset \mathbb{R}$, $\{f_k\} \subset C^0(A)$, per ogni $n \in \mathbb{N}$, $\sum_{k=1}^{\infty} f_k$ converge uniformemente ad f in A . Allora $f \in C^0(A)$.

Dim. Segue dalla Proposizione 1.9. □

Proposizione 2.8 (Scambio della serie con la derivata). Siano $f_n : (a, b) \rightarrow \mathbb{R}$ derivabile, per ogni $n \in \mathbb{N}$, $\sum_{k=1}^{\infty} f'_k$ converge uniformemente a g in (a, b) , ed esiste $x_0 \in (a, b)$ tale che $\sum_{k=1}^{\infty} f_k(x_0)$ converge. Allora

- (1) esiste $f : (a, b) \rightarrow \mathbb{R}$ tale che $\sum_{k=1}^{\infty} f_k$ converge uniformemente a f in (a, b) ,

(2) f è derivabile in (a, b) e $f' = g$.

Cioè, $\frac{d}{dx} \sum_{k=1}^{\infty} f_k(x) = \sum_{k=1}^{\infty} \frac{d}{dx} f_k(x)$, per ogni $x \in (a, b)$.

Dim. Segue dalla Proposizione 1.11. □

Proposizione 2.9 (Scambio della serie con l'integrale). Siano $\{f_n\} \subset \mathcal{R}[a, b]$, $\sum_{k=1}^{\infty} f_k$ converge uniformemente ad f in $[a, b]$. Allora $f \in \mathcal{R}[a, b]$ e $\int_a^b \sum_{k=1}^{\infty} f_k = \int_a^b f$.

Cioè, $\int_a^b \sum_{k=1}^{\infty} f_k(x) dx = \sum_{k=1}^{\infty} \int_a^b f_k(x) dx$.

Dim. Segue dalla Proposizione 1.13. □

2.2 Esercizi svolti

Esercizio 12. Studiare la convergenza (puntuale e) uniforme della seguente serie di funzioni $\sum_{n=1}^{\infty} \frac{1}{n(1+nx^2)}$, $x \in [1, +\infty)$.

Svolgimento. Osserviamo che, per ogni $x \in [1, +\infty)$ fissato, la serie converge [perché $\frac{1}{n(1+nx^2)} = \frac{1}{n^2 x^2 (1+o(1))}$]. Per determinare se la serie converge uniformemente, usiamo il criterio di Weierstrass di convergenza totale, e calcoliamo $M_n := \sup_{x \in [1, +\infty)} \left| \frac{1}{n(1+nx^2)} \right| = \frac{1}{n(1+n)}$. Poiché $\sum_{n=1}^{\infty} M_n$ converge, la serie data converge uniformemente in $[1, +\infty)$. □

Esercizio 13. Studiare la convergenza (puntuale e) uniforme della seguente serie di funzioni $\sum_{n=1}^{\infty} \frac{\arctg(x\sqrt{n})}{n^2}$, $x \in \mathbb{R}$.

Svolgimento. Osserviamo che la serie converge per ogni $x \in \mathbb{R}$ fissato, perché $\left| \frac{\arctg(x\sqrt{n})}{n^2} \right| \leq \frac{\pi}{2n^2}$. Per determinare se la serie converge uniformemente, usiamo il criterio di Weierstrass di convergenza totale, e calcoliamo $M_n := \sup_{x \in \mathbb{R}} \left| \frac{\arctg(x\sqrt{n})}{n^2} \right| = \frac{\pi}{2n^2}$. Poiché $\sum_{n=1}^{\infty} M_n$ converge, la serie data converge uniformemente in \mathbb{R} . □

Esercizio 14. Studiare la convergenza (puntuale e) uniforme della seguente serie di funzioni $\sum_{n=1}^{\infty} \frac{\log(1+x^{2n})}{n^2}$, $x \in [-1, 1]$.

Svolgimento. Osserviamo che la serie converge per $x = 0$; inoltre, per ogni $x \in [-1, 0) \cup (0, 1]$ fissato, la serie converge perché $\frac{\log(1+x^{2n})}{n^2} = \frac{x^{2n}(1+o(1))}{n^2}$. Per determinare se la serie converge uniformemente, usiamo il criterio di Weierstrass di convergenza totale, e calcoliamo $M_n := \sup_{x \in [-1, 1]} \left| \frac{\log(1+x^{2n})}{n^2} \right| = \frac{\log 2}{n^2}$. Poiché $\sum_{n=1}^{\infty} M_n$ converge, la serie data converge uniformemente in $[-1, 1]$. □

Esercizio 15. Studiare la convergenza (puntuale e) uniforme della seguente serie di funzioni $\sum_{n=1}^{\infty} n^x (\log n)^2$, $x \in (-\infty, -2]$.

Svolgimento. Osserviamo che, per ogni $x \in (-\infty, -2]$ fissato, la serie converge. Per determinare se la serie converge uniformemente, usiamo il criterio di Weierstrass di convergenza totale, e calcoliamo $M_n := \sup_{x \in (-\infty, -2]} |n^x (\log n)^2| = \frac{(\log n)^2}{n^2}$. Poiché $\sum_{n=1}^{\infty} M_n$ converge, la serie data converge uniformemente in $(-\infty, -2]$. \square

Esercizio 16. Studiare la convergenza (puntuale e) uniforme della seguente serie di funzioni $\sum_{n=1}^{\infty} \frac{e^{-nx^2}}{1+n}$, $x \in [1, \infty)$.

Svolgimento. Osserviamo che la serie converge per ogni $x \in [1, \infty)$ fissato, perché $0 \leq \frac{e^{-nx^2}}{1+n} \leq \frac{e^{-n}}{1+n}$. Per determinare se la serie converge uniformemente, usiamo il criterio di Weierstrass di convergenza totale, e calcoliamo $M_n := \sup_{x \in [1, \infty)} \left| \frac{e^{-nx^2}}{1+n} \right| = \frac{e^{-n}}{1+n}$. Poiché $\sum_{n=1}^{\infty} M_n$ converge, la serie data converge uniformemente in $[1, \infty)$. \square

Esercizio 17. Studiare la convergenza (puntuale e) uniforme della seguente serie di funzioni $\sum_{n=1}^{\infty} \frac{1}{n+x^{2n}}$, $x \in (-\infty, -2]$.

Svolgimento. Osserviamo che, per ogni $x \in (-\infty, -2]$ fissato, la serie converge [perché $\frac{1}{n+x^{2n}} = \frac{1}{x^{2n}(1+o(1))}$]. Per determinare se la serie converge uniformemente, usiamo il criterio di Weierstrass di convergenza totale, e calcoliamo $M_n := \sup_{x \in (-\infty, -2]} \left| \frac{1}{n+x^{2n}} \right| = \frac{1}{n+4^n}$. Poiché $\sum_{n=1}^{\infty} M_n$ converge, la serie data converge uniformemente in $(-\infty, -2]$. \square

Esercizio 18. Studiare la convergenza (puntuale e) uniforme della seguente serie di funzioni $\sum_{n=1}^{\infty} n^{-n^x}$, $x \in [1, +\infty)$.

Svolgimento. Osserviamo che, per ogni $x \in [1, +\infty)$ fissato, la serie converge [perché $n^{-n^x} = e^{-n^x \log n} \leq e^{-n \log n}$]. Per determinare se la serie converge uniformemente, usiamo il criterio di Weierstrass di convergenza totale, e calcoliamo $M_n := \sup_{x \in [1, +\infty)} \left| n^{-n^x} \right| = e^{-n \log n}$. Poiché $\sum_{n=1}^{\infty} M_n$ converge, la serie data converge uniformemente in $[1, +\infty)$. \square

Esercizio 19. Studiare la convergenza (puntuale e) uniforme della seguente serie di funzioni $\sum_{n=1}^{\infty} \frac{x}{n(x+n)}$, $x \in [0, 5]$.

Svolgimento. Osserviamo che la serie converge per $x = 0$; inoltre la serie converge per ogni $x \in (0, 5]$ fissato, perché $\frac{x}{n(x+n)} = \frac{x}{n^2(1+o(1))}$. Per determinare se la serie converge uniformemente, usiamo il criterio di Weierstrass di convergenza totale, e calcoliamo $M_n := \sup_{x \in [0,5]} \left| \frac{x}{n(x+n)} \right| = \frac{5}{n(5+n)}$, poiché $\frac{d}{dx} \frac{x}{n(x+n)} = \frac{1}{(x+n)^2} \geq 0$, per ogni $x \geq 0$. Poiché $\sum_{n=1}^{\infty} M_n$ converge, la serie data converge uniformemente in $[0, 5]$. \square

Esercizio 20. Studiare la convergenza (puntuale e) uniforme della seguente serie di funzioni $\sum_{n=1}^{\infty} \frac{n \log\left(1 + \frac{x}{n}\right)}{(x+n)^2}$, $x \in [0, 2]$.

Svolgimento. Osserviamo che la serie converge per $x = 0$; inoltre la serie converge per ogni $x \in (0, 2]$ fissato, perché $\frac{n \log\left(1 + \frac{x}{n}\right)}{(x+n)^2} = \frac{x(1+o(1))}{n^2(1+o(1))}$. Per determinare se la serie converge uniformemente, usiamo il criterio di Weierstrass di convergenza totale, e, posto $f_n(x) := \frac{n \log\left(1 + \frac{x}{n}\right)}{(x+n)^2}$, calcoliamo $M_n := \sup_{x \in [0,2]} |f_n(x)| = f_n(2)$, poiché $f'_n(x) = \frac{n-2n \log\left(1 + \frac{x}{n}\right)}{(x+n)^3} \geq 0 \iff x \leq n(\sqrt{e} - 1)$. Poiché $\sum_{n=1}^{\infty} M_n$ converge, la serie data converge uniformemente in $[0, 2]$. \square

Esercizio 21. Studiare la convergenza (puntuale e) uniforme della seguente serie di funzioni $\sum_{n=1}^{\infty} \frac{e^{-nx}}{1 + (x-n)^2}$, $x \in [0, \infty)$.

Svolgimento. Osserviamo che la serie converge per ogni $x \in [0, \infty)$ fissato, perché $0 \leq \frac{e^{-nx}}{1+(x-n)^2} \leq \frac{1}{1+(x-n)^2} = \frac{1}{n^2(1+o(1))}$. Per determinare se la serie converge uniformemente, usiamo il criterio di Weierstrass di convergenza totale, e, posto $f_n(x) := \frac{e^{-nx}}{1+(x-n)^2}$, calcoliamo $M_n := \sup_{x \in [0, \infty)} |f_n(x)| = f_n(0) = \frac{1}{1+n^2}$, poiché $f'_n(x) = \frac{-e^{-nx}[n(x-n)^2 + 2(x-n) + n]}{[1+(x-n)^2]^2} < 0$, per ogni $x \geq 0$. Poiché $\sum_{n=1}^{\infty} M_n$ converge, la serie data converge uniformemente in $[0, \infty)$. \square

Esercizio 22. Studiare la convergenza (puntuale e) uniforme della seguente serie di funzioni $\sum_{n=1}^{\infty} \frac{\cos(nx)}{1+n^2x^2}$, $x \in (-\infty, -1]$.

Svolgimento. Osserviamo che la serie converge per ogni $x \in (-\infty, -1]$ fissato, perché $\left| \frac{\cos(nx)}{1+n^2x^2} \right| \leq \frac{1}{1+n^2x^2} = \frac{1}{n^2x^2(1+o(1))}$. Per determinare se la serie converge uniformemente, usiamo il criterio di Weierstrass di convergenza totale, e calcoliamo $M_n := \sup_{x \in (-\infty, -1]} \left| \frac{\cos(nx)}{1+n^2x^2} \right| \leq \sup_{x \in (-\infty, -1]} \frac{1}{1+n^2x^2} = \frac{1}{1+n^2}$. Poiché $\sum_{n=1}^{\infty} M_n$ converge, la serie data converge uniformemente in $(-\infty, -1]$. \square

Esercizio 23. Studiare la convergenza (puntuale e) uniforme della seguente serie di funzioni $\sum_{n=1}^{\infty} \cos(nx)e^{-nx^2}$, $x \in [1, \infty)$.

Svolgimento. Osserviamo che, per ogni $x \in [1, \infty)$ fissato, la serie converge [perché $|\cos(nx)e^{-nx^2}| \leq e^{-nx^2}$]. Per determinare se la serie converge uniformemente, usiamo il criterio di Weierstrass di convergenza totale, e calcoliamo $M_n := \sup_{x \in [1, \infty)} |\cos(nx)e^{-nx^2}| \leq e^{-n}$. Poiché $\sum_{n=1}^{\infty} M_n$ converge, la serie data converge uniformemente in $(-\infty, -2]$. \square

Esercizio 24. Studiare la convergenza (puntuale e) uniforme della seguente serie di funzioni $\sum_{n=1}^{\infty} \frac{\sin(\frac{x}{n})}{n+x^2}$, $x \in \mathbb{R}$.

Svolgimento. Osserviamo che la serie converge per $x = 0$; inoltre la serie converge per ogni $x \in \mathbb{R} \setminus \{0\}$ fissato, perché $\frac{\sin(\frac{x}{n})}{n+x^2} = \frac{\frac{x}{n}(1+o(1))}{n(1+o(1))}$. Per determinare se la serie converge uniformemente, usiamo il

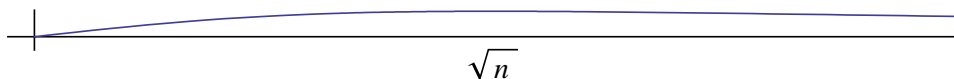


Figure 4: Grafico per l'esercizio 24

criterio di Weierstrass di convergenza totale, e calcoliamo $M_n := \sup_{x \in \mathbb{R}} \left| \frac{\sin(\frac{x}{n})}{n+x^2} \right| \leq \sup_{x \in \mathbb{R}} \frac{|x|}{n+x^2}$; posto $f_n(x) := \frac{x}{n+x^2}$, si ha $f'_n(x) = \frac{n-x^2}{n(n+x^2)^2} \geq 0 \iff |x| \leq \sqrt{n}$, per cui $M_n \leq f_n(\sqrt{n}) = \frac{1}{2n^{3/2}}$. Poiché $\sum_{n=1}^{\infty} M_n$ converge, la serie data converge uniformemente in \mathbb{R} . \square

Esercizio 25. Studiare la convergenza (puntuale e) uniforme della seguente serie di funzioni $\sum_{n=1}^{\infty} \frac{\frac{1}{n} + \sin \frac{x}{\sqrt{n}}}{1+nx}$, $x \in [-10, -2]$.

Svolgimento. Osserviamo che, per ogni $x \in [-10, -2]$ fissato, la serie converge [perché $\frac{\frac{1}{n} + \sin \frac{x}{\sqrt{n}}}{1+nx} = \frac{1}{n^{3/2}}(1+o(1))$]. Per determinare se la serie converge uniformemente, usiamo il criterio di Weierstrass di convergenza totale, e calcoliamo $M_n := \sup_{x \in [-10, -2]} \left| \frac{\frac{1}{n} + \sin \frac{x}{\sqrt{n}}}{1+nx} \right| \leq \sup_{x \in [-10, -2]} \frac{\frac{1}{n} + \frac{|x|}{\sqrt{n}}}{2n-1} \leq \frac{\frac{1}{n} + \frac{10}{\sqrt{n}}}{2n-1}$. Poiché $\sum_{n=1}^{\infty} M_n$ converge, la serie data converge uniformemente in $[-10, -2]$. \square

2.3 Esercizi proposti

Esercizio 26. Studiare la convergenza (puntuale e) uniforme delle seguenti serie di funzioni, nell'intervallo indicato,

- (1) $\sum_{n=1}^{\infty} \frac{x^n}{n2^n}$, in $[-1, 1]$,
- (2) $\sum_{n=1}^{\infty} \frac{n^3 x^n}{n!}$, in $[-3, 3]$,
- (3) $\sum_{n=1}^{\infty} \frac{\log n}{n} (\cos x)^n$, in $[\frac{\pi}{4}, \frac{3\pi}{4}]$,
- (4) $\sum_{n=1}^{\infty} x^n e^{-nx^2}$, in \mathbb{R} ,
- (5) $\sum_{n=1}^{\infty} \frac{\operatorname{arctg}(\frac{x}{n})}{\sqrt{n}}$, in $[-2, 2]$,
- (6) $\sum_{n=1}^{\infty} n \sin\left(\frac{e^{-nx^2}}{n}\right)$, in $[1, \infty)$,
- (7) $\sum_{n=1}^{\infty} \frac{(-1)^n (x^2 + n)}{n^2}$, in $[-1, 1]$,
- (8) $\sum_{n=1}^{\infty} x^{\log \log n} n^{-x}$, in $[2, \infty)$,
- (9) $\sum_{n=1}^{\infty} \sin\left(\sqrt{n} \sin \frac{x}{n^2}\right)$, in $[-1, 1]$,
- (10) $\sum_{n=1}^{\infty} \frac{x^{n^2}}{n}$, in $[-\frac{1}{2}, \frac{1}{2}]$,
- (11) $\sum_{n=1}^{\infty} 3^{n^5} x^{n!}$, in $[-\frac{1}{2}, \frac{1}{2}]$,
- (12) $\sum_{n=1}^{\infty} 3^{-n^x}$, in $[1, \infty)$,
- (13) $\sum_{n=1}^{\infty} n^{-x^n/n}$, in $[2, \infty)$,
- (14) $\sum_{n=1}^{\infty} x^{\sqrt[3]{n}} n^x$, in $[0, \frac{1}{2}]$.

3 Serie di potenze

3.1 Teoria generale

Definizione 3.1. Siano $\{a_n\} \subset \mathbb{R}$, $z_0, z \in \mathbb{R}$. Si dice serie di potenze di centro z_0 la serie $\sum_{n=0}^{\infty} a_n(z-z_0)^n$.

Lemma 3.2. Se $\sum_{n=0}^{\infty} a_n(z-z_0)^n$ converge in $z = z_1$, allora converge assolutamente per ogni $z \in \mathbb{R}$ tale che $|z - z_0| < |z_1 - z_0|$.

Dim. Poiché $\sum_{n=0}^{\infty} a_n(z_1 - z_0)^n$ converge, si ha $\lim_{n \rightarrow \infty} a_n(z_1 - z_0)^n = 0$, e quindi esiste $n_0 \in \mathbb{N}$ tale che $|a_n(z_1 - z_0)^n| < 1$, per ogni $n > n_0$. Allora, per ogni $z \in \mathbb{R}$ tale che $|z - z_0| < |z_1 - z_0|$, si ha $|a_n(z - z_0)^n| = |a_n(z_1 - z_0)^n| \cdot \left|\frac{z-z_0}{z_1-z_0}\right|^n < \left|\frac{z-z_0}{z_1-z_0}\right|^n$, per ogni $n > n_0$. Poiché $\left|\frac{z-z_0}{z_1-z_0}\right| < 1$, per il criterio del confronto $\sum_{n=0}^{\infty} a_n(z - z_0)^n$ converge assolutamente. \square

Definizione 3.3. Posto $E := \{|z - z_0| : \sum_{n=0}^{\infty} a_n(z - z_0)^n \text{ converge in } z \in \mathbb{R}\}$, si dice raggio di convergenza della serie $\sum_{n=0}^{\infty} a_n(z - z_0)^n$ il numero $r := \sup E \in [0, +\infty]$.

Proposizione 3.4. [Cauchy, Hadamard] Siano $\sum_{n=0}^{\infty} a_n(z - z_0)^n$ e $L := \limsup_{n \rightarrow \infty} \sqrt[n]{|a_n|} \in [0, +\infty]$. Allora il raggio di convergenza della serie è $r = \begin{cases} 0, & L = +\infty, \\ \frac{1}{L}, & 0 < L < +\infty, \\ +\infty, & L = 0. \end{cases}$

Dim. Eseguiamo la dimostrazione solo nel caso particolare in cui esiste $L := \lim_{n \rightarrow \infty} \sqrt[n]{|a_n|} \in [0, +\infty]$.

Applicando il criterio della radice alla serie $\sum_{n=0}^{\infty} |a_n| |z - z_0|^n$ si ha $\lim_{n \rightarrow \infty} \sqrt[n]{|a_n| |z - z_0|^n} = |z - z_0| \lim_{n \rightarrow \infty} \sqrt[n]{|a_n|} = L|z - z_0|$. Quindi, se $L = 0$, la serie $\sum_{n=0}^{\infty} a_n(z - z_0)^n$ converge assolutamente, per ogni $z \in \mathbb{R}$, per cui $r = +\infty$. Se $L \in (0, +\infty)$, la serie $\sum_{n=0}^{\infty} a_n(z - z_0)^n$ converge assolutamente per ogni $z \in \mathbb{R}$ tale che $|z - z_0| < \frac{1}{L}$, e non converge se $|z - z_0| > \frac{1}{L}$, per cui $r = \frac{1}{L}$. Infine, se $L = +\infty$, la serie converge solo per $z = z_0$, cioè $r = 0$. \square

Proposizione 3.5. Siano $\sum_{n=0}^{\infty} a_n(z - z_0)^n$ e $L := \lim_{n \rightarrow \infty} \frac{|a_{n+1}|}{|a_n|} \in [0, +\infty]$. Allora il raggio di

convergenza della serie è $r = \begin{cases} 0, & L = +\infty, \\ \frac{1}{L}, & 0 < L < +\infty, \\ +\infty, & L = 0. \end{cases}$

Dim. Applicando il criterio del rapporto alla serie $\sum_{n=1}^{\infty} |a_n| |z - z_0|^n$, si ha $\lim_{n \rightarrow \infty} \frac{|a_{n+1}| |z - z_0|^{n+1}}{|a_n| |z - z_0|^n} = L|z - z_0|$. Quindi, se $L = 0$, la serie $\sum_{n=0}^{\infty} a_n(z - z_0)^n$ converge assolutamente, per ogni $z \in \mathbb{R}$, per cui $r = +\infty$. Se $L \in (0, +\infty)$, la serie $\sum_{n=0}^{\infty} a_n(z - z_0)^n$ converge assolutamente per ogni $z \in \mathbb{R}$ tale che $|z - z_0| < \frac{1}{L}$, e non converge se $|z - z_0| > \frac{1}{L}$, per cui $r = \frac{1}{L}$. Infine, se $L = +\infty$, la serie converge solo per $z = z_0$, cioè $r = 0$. \square

Proposizione 3.6. Sia $\sum_{n=0}^{\infty} a_n(z - z_0)^n$, con raggio di convergenza $r > 0$, e poniamo $f(z) := \sum_{n=0}^{\infty} a_n(z - z_0)^n$, per ogni $z \in (z_0 - r, z_0 + r)$. Allora

- (1) $\sum_{n=0}^{\infty} a_n(z - z_0)^n$ converge uniformemente a f in $[z_0 - r', z_0 + r']$, per ogni $r' \in (0, r)$,
- (2) $f \in C^0(z_0 - r, z_0 + r)$.

Dim. (1) Sia $r' \in (0, r)$. Intanto $\sum_{n=0}^{\infty} a_n(z - z_0)^n$ converge assolutamente per $z = z_0 + r'$. Inoltre, per ogni $z \in [z_0 - r', z_0 + r']$ si ha $|a_n(z - z_0)^n| \leq |a_n|(r')^n$, e poiché $\sum_{n=1}^{\infty} |a_n|(r')^n < +\infty$ [per quanto appena detto], per il criterio di Weierstrass 2.5 si conclude.

(2) Segue da (1) e dalla Proposizione 2.7 che $f \in C^0[z_0 - r', z_0 + r']$, per ogni $r' \in (0, r)$. Per l'arbitrarietà di r' , si conclude. \square

Proposizione 3.7. *Sia $\sum_{n=0}^{\infty} a_n(z - z_0)^n$, con raggio di convergenza $r > 0$, e poniamo $f(z) := \sum_{n=0}^{\infty} a_n(z - z_0)^n$, per ogni $z \in (z_0 - r, z_0 + r)$. Allora*

(1) *la serie derivata $\sum_{n=1}^{\infty} na_n(z - z_0)^{n-1}$ ha raggio di convergenza $r' = r$,*

(2) *per ogni $z \in (z_0 - r, z_0 + r)$, esiste $f'(z) = \sum_{n=1}^{\infty} na_n(z - z_0)^{n-1}$.*

Dim. (1) Poiché $\sum_{n=1}^{\infty} na_n(z - z_0)^{n-1} = \sum_{k=0}^{\infty} ka_{k+1}(z - z_0)^k$, essa è una serie di potenza con raggio di convergenza r' dato da $\frac{1}{r'} = \limsup_{n \rightarrow \infty} \sqrt[n]{(n+1)|a_{n+1}|} = \limsup_{n \rightarrow \infty} n^{\frac{1}{n-1}} |a_n|^{\frac{1}{n-1}} = \lim_{n \rightarrow \infty} (n^{\frac{1}{n}})^{\frac{n}{n-1}} \limsup_{n \rightarrow \infty} (|a_n|^{\frac{1}{n}})^{\frac{n}{n-1}} = \frac{1}{r}$.

(2) Segue dalla Proposizione 2.8. \square

Proposizione 3.8. *Sia $\sum_{n=0}^{\infty} a_n(z - z_0)^n$, con raggio di convergenza $r > 0$, e poniamo $f(z) := \sum_{n=0}^{\infty} a_n(z - z_0)^n$, per ogni $z \in (z_0 - r, z_0 + r)$. Allora*

(1) *$f \in C^\infty(z_0 - r, z_0 + r)$,*

(2) *$f^{(k)}(z) = \sum_{n=k}^{\infty} n(n-1) \cdots (n-k+1)a_n(z - z_0)^{n-k}$, per ogni $z \in (z_0 - r, z_0 + r)$,*

(3) *$a_n = \frac{f^{(n)}(z_0)}{n!}$, per ogni $n \in \mathbb{N} \cup \{0\}$.*

Dim. (1) Per la Proposizione 3.7 f è derivabile e quindi continua in $(z_0 - r, z_0 + r)$, e f' è una serie di potenze con lo stesso raggio di convergenza di f , per cui anche f' è continua. Procedendo per induzione, si dimostra che tutte le derivate di f sono continue, e quindi $f \in C^\infty(z_0 - r, z_0 + r)$.

(2) Segue dalla Proposizione 3.7, procedendo per induzione.

(3) Da (2) si ha $f^{(k)}(z_0) = k(k-1) \cdots 1 \cdot a_k = a_k \cdot k!$, da cui la tesi. \square

Proposizione 3.9. *Sia $\sum_{n=0}^{\infty} a_n(z - z_0)^n$, con raggio di convergenza $r > 0$, e poniamo $f(z) := \sum_{n=0}^{\infty} a_n(z - z_0)^n$, per ogni $z \in (z_0 - r, z_0 + r)$. Allora*

(1) *$f \in \mathcal{R}[a, b]$, per ogni $[a, b] \subset (z_0 - r, z_0 + r)$,*

(2) *per ogni $z \in (z_0 - r, z_0 + r)$ si ha $\int_{z_0}^z f(t) dt = \sum_{n=0}^{\infty} \frac{a_n}{n+1} (z - z_0)^{n+1}$, e la serie ha raggio di convergenza r .*

Dim. (1) Poiché $f \in C^0[a, b]$, per ogni $[a, b] \subset (z_0 - r, z_0 + r)$, la tesi segue.

(2) Intanto la serie $\sum_{n=0}^{\infty} \frac{a_n}{n+1} (z - z_0)^{n+1}$ ha raggio di convergenza $r' = r$, in quanto, usando la Proposizione 3.4 si ha $\frac{1}{r'} = \limsup_{n \rightarrow \infty} \sqrt[n]{\frac{|a_{n-1}|}{n}} = \limsup_{n \rightarrow \infty} (|a_n|^{\frac{1}{n}})^{\frac{n}{n+1}} \lim_{n \rightarrow \infty} (n^{\frac{1}{n}})^{-1} = \frac{1}{r}$. Posto, allora, $g(z) := \sum_{n=0}^{\infty} \frac{a_n}{n+1} (z - z_0)^{n+1}$, per ogni $z \in (z_0 - r, z_0 + r)$, per la Proposizione 3.8 si ha $g \in C^\infty(z_0 - r, z_0 + r)$, e $g'(z) = \sum_{n=0}^{\infty} a_n (z - z_0)^n = f(z)$, per ogni $z \in (z_0 - r, z_0 + r)$. Essendo, inoltre, $g(z_0) = 0$, la tesi segue dal teorema fondamentale del calcolo integrale. \square

Proposizione 3.10. [Abel] *Sia $\sum_{n=0}^{\infty} a_n(z - z_0)^n$, con raggio di convergenza $r > 0$, e poniamo $f(z) := \sum_{n=0}^{\infty} a_n(z - z_0)^n$, per ogni $z \in (z_0 - r, z_0 + r)$.*

- (1) Se $\sum_{n=0}^{\infty} a_n(z-z_0)^n$ converge per $z = z_0 + r$, con somma S , allora $\sum_{n=0}^{\infty} a_n(z-z_0)^n$ converge uniformemente in $[z_0, z_0 + r]$, e $\lim_{z \rightarrow (z_0+r)^-} f(z) = S$.
- (2) Se $\sum_{n=0}^{\infty} a_n(z-z_0)^n$ converge per $z = z_0 - r$, con somma S , allora $\sum_{n=0}^{\infty} a_n(z-z_0)^n$ converge uniformemente in $[z_0 - r, z_0]$, e $\lim_{z \rightarrow (z_0-r)^+} f(z) = S$.

3.2 Serie di Taylor e funzioni analitiche

Definizione 3.11. Sia $A \subset \mathbb{R}$ un aperto. Si dice che $f : A \rightarrow \mathbb{R}$ è analitica in $x_0 \in A$, se f è sviluppabile in serie di Taylor nell'intorno di x_0 , cioè se esiste $r > 0$ tale che $\sum_{n=0}^{\infty} \frac{f^{(n)}(x_0)}{n!} (x-x_0)^n = f(x)$, per ogni $x \in (x_0 - r, x_0 + r)$.

Si dice che f è analitica in A , e si indica $f \in C^\omega(A)$, se f è analitica in ogni $x_0 \in A$.

Osservazione 3.12. Non tutte le funzioni C^∞ sono analitiche. Ad esempio, sia $f(x) := \begin{cases} e^{-1/x^2}, & x \neq 0 \\ 0, & x = 0. \end{cases}$

Allora $f \in C^\infty(\mathbb{R})$ e $f^{(n)}(0) = 0$, per ogni $n \in \mathbb{N} \cup \{0\}$, ma $f \notin C^\omega(\mathbb{R})$.

Dimostriamo, intanto che, per ogni $x \neq 0$, $n \in \mathbb{N} \cup \{0\}$, si ha $f^{(n)}(x) = P_n(\frac{1}{x})e^{-1/x^2}$, dove P_n è un polinomio di grado $3n$. Infatti, per $n = 0$ è ovvio, con $P_0 \equiv 1$. Supponiamo la tesi vera per un certo $n \in \mathbb{N} \cup \{0\}$, e dimostriamola vera per $n + 1$. Infatti, $f^{(n+1)}(x) = -\frac{1}{x^2} P_n'(\frac{1}{x})e^{-1/x^2} + \frac{2}{x^3} P_n(\frac{1}{x})e^{-1/x^2} = (\frac{2}{x^3} P_n(\frac{1}{x}) - \frac{1}{x^2} P_n'(\frac{1}{x}))e^{-1/x^2}$, e se poniamo $P_{n+1}(t) := 2t^3 P_n(t) - t^2 P_n'(t)$, che è di grado $3n + 3 = 3(n + 1)$, si ha la tesi.

Dimostriamo ora che $f^{(n)}(0) = 0$, per ogni $n \in \mathbb{N} \cup \{0\}$. Intanto è vero per $n = 0$, per definizione. Supponiamo la tesi vera per un certo $n \in \mathbb{N} \cup \{0\}$, e dimostriamola vera per $n + 1$. Infatti, $f^{(n+1)}(0) = \lim_{h \rightarrow 0} \frac{f^{(n)}(h) - f^{(n)}(0)}{h} = \lim_{h \rightarrow 0^\pm} \frac{P_n(\frac{1}{h})e^{-1/h^2}}{h} = \lim_{t \rightarrow \pm\infty} t P_n(t) e^{-t^2} = 0$, e la tesi segue per induzione.

Infine, $f \notin C^\omega(\mathbb{R})$, perché la sua serie di Taylor in $x_0 = 0$ è la serie nulla, e quindi la sua somma non è $f(x)$, se $x \neq 0$.

Proposizione 3.13 (Caratterizzazione delle funzioni analitiche). *Siano $I \subset \mathbb{R}$ un intervallo aperto, $f \in C^\infty(I)$. Sono equivalenti*

- (1) $f \in C^\omega(I)$,
- (2) per ogni intervallo chiuso e limitato $J \subset I$, esistono $A, B > 0$ tali che, per ogni $x \in J$, $n \in \mathbb{N} \cup \{0\}$, si ha $|f^{(n)}(x)| \leq AB^n n!$.

Vediamo delle condizioni sufficienti per l'analiticità.

Proposizione 3.14. *Siano $x_0 \in \mathbb{R}$, $r > 0$, $f \in C^\infty(x_0 - r, x_0 + r)$, $M > 0$ tale che $\sup_{|x-x_0| < r} |f^{(n)}(x)| \leq \frac{Mn!}{r^n}$, per ogni $n \gg 0$. Allora $f \in C^\omega(x_0 - r, x_0 + r)$.*

Dim. Sia $x \in (x_0 - r, x_0 + r)$, per cui $f(x) = \sum_{k=0}^n \frac{f^{(k)}(x_0)}{k!} (x-x_0)^k + \frac{f^{(n+1)}(c_n)}{(n+1)!} (x-x_0)^{n+1}$, dove $c_n \in \overline{x_0} \subset (x_0 - r, x_0 + r)$. Ma allora $|\frac{f^{(n+1)}(c_n)}{(n+1)!} (x-x_0)^{n+1}| \leq \frac{M(n+1)! |x-x_0|^{n+1}}{r^{n+1} (n+1)!} = M \left(\frac{|x-x_0|}{r}\right)^{n+1} \rightarrow 0$, $n \rightarrow \infty$, e quindi $f(x) = \lim_{n \rightarrow \infty} \sum_{k=0}^n \frac{f^{(k)}(x_0)}{k!} (x-x_0)^k = \sum_{k=0}^{\infty} \frac{f^{(k)}(x_0)}{k!} (x-x_0)^k$, cioè f è analitica in $x \in (x_0 - r, x_0 + r)$. Per l'arbitrarietà di $x \in (x_0 - r, x_0 + r)$, si ha la tesi. \square

Proposizione 3.15. *Siano $x_0 \in \mathbb{R}$, $r > 0$, $f \in C^\infty(x_0 - r, x_0 + r)$, $M > 0$ tale che $\sup_{|x-x_0| < r} |f^{(n)}(x)| \leq M^n$, per ogni $n \gg 0$. Allora $f \in C^\omega(x_0 - r, x_0 + r)$.*

Dim. Poiché $\lim_{n \rightarrow \infty} \frac{M^n r^n}{n!} = 0$, esiste $K > 0$ tale che $M^n \leq \frac{K n!}{r^n}$, per ogni $n \gg 0$. La tesi segue dalla Proposizione 3.14. \square

Esempi 3.16.

(1) $e^x = \sum_{k=0}^{\infty} \frac{x^k}{k!}$, per ogni $x \in \mathbb{R}$.

(2) $\sin x = \sum_{k=0}^{\infty} \frac{(-1)^k x^{2k+1}}{(2k+1)!}$, per ogni $x \in \mathbb{R}$.

(3) $\cos x = \sum_{k=0}^{\infty} \frac{(-1)^k x^{2k}}{(2k)!}$, per ogni $x \in \mathbb{R}$.

(4) $\sinh x = \sum_{k=0}^{\infty} \frac{x^{2k+1}}{(2k+1)!}$, per ogni $x \in \mathbb{R}$.

(5) $\cosh x = \sum_{k=0}^{\infty} \frac{x^{2k}}{(2k)!}$, per ogni $x \in \mathbb{R}$.

(6) $\log(1+x) = \sum_{k=1}^{\infty} \frac{(-1)^{k+1} x^k}{k}$, per ogni $x \in (-1, 1]$.

(7) $\arctg x = \sum_{k=0}^{\infty} \frac{(-1)^k x^{2k+1}}{2k+1}$, per ogni $x \in [-1, 1]$.

(8) $\text{sett tgh } x = \sum_{k=0}^{\infty} \frac{x^{2k+1}}{2k+1}$, per ogni $x \in (-1, 1)$.

(9) $(1+x)^\alpha = \sum_{k=0}^{\infty} \binom{\alpha}{k} x^k$, per ogni $x \in (-1, 1)$, $\alpha \in \mathbb{R}$. Se $\alpha > 0$, la serie converge uniformemente in $[-1, 1]$.

(10) $\arcsin x = \sum_{k=0}^{\infty} \frac{(2k-1)!!}{(2k)!!} \frac{x^{2k+1}}{2k+1}$, per ogni $x \in (-1, 1)$.

Dim. (1) Infatti, per ogni $r > 0$, $n \in \mathbb{N} \cup \{0\}$, si ha $\sup_{|x| < r} |f^{(n)}(x)| = \sup_{|x| < r} e^x = e^r =: M$, e la tesi segue dalla Proposizione 3.15.

(2) Infatti, per ogni $r > 0$, $n \in \mathbb{N} \cup \{0\}$, si ha $\sup_{|x| < r} |f^{(n)}(x)| = \begin{cases} \sup_{|x| < r} |\sin x|, & n \text{ pari,} \\ \sup_{|x| < r} |\cos x|, & n \text{ dispari,} \end{cases} \leq 1$,

e la tesi segue dalla Proposizione 3.15.

(3) Infatti, per ogni $r > 0$, $n \in \mathbb{N} \cup \{0\}$, si ha $\sup_{|x| < r} |f^{(n)}(x)| = \begin{cases} \sup_{|x| < r} |\cos x|, & n \text{ pari,} \\ \sup_{|x| < r} |\sin x|, & n \text{ dispari,} \end{cases} \leq 1$,

e la tesi segue dalla Proposizione 3.15.

(4) Infatti, per ogni $r > 0$, $n \in \mathbb{N} \cup \{0\}$, si ha $\sup_{|x| < r} |f^{(n)}(x)| = \begin{cases} \sup_{|x| < r} |\sinh x|, & n \text{ pari,} \\ \sup_{|x| < r} |\cosh x|, & n \text{ dispari,} \end{cases} \leq$

$\cosh r$, e la tesi segue dalla Proposizione 3.15.

(5) Infatti, per ogni $r > 0$, $n \in \mathbb{N} \cup \{0\}$, si ha $\sup_{|x| < r} |f^{(n)}(x)| = \begin{cases} \sup_{|x| < r} |\cosh x|, & n \text{ pari,} \\ \sup_{|x| < r} |\sinh x|, & n \text{ dispari,} \end{cases} \leq \cosh r$, e la tesi segue dalla Proposizione 3.15.

(6) Infatti, per ogni $x \in (-1, 1)$ si ha

$$\log(1+x) = \int_0^x \frac{dt}{1+t} = \int_0^x \sum_{k=0}^{\infty} (-1)^k t^k dt \stackrel{(a)}{=} \sum_{k=0}^{\infty} (-1)^k \int_0^x t^k dt = \sum_{k=0}^{\infty} (-1)^k \frac{x^{k+1}}{k+1},$$

dove in (a) si è usata la Proposizione 2.9.

Infine, se $x = 1$, la serie diventa $\sum_{k=1}^{\infty} \frac{(-1)^{k+1}}{k}$, che converge per il criterio di Leibniz. La tesi segue allora dalla Proposizione 3.10 (1).

(7) Infatti, per ogni $x \in (-1, 1)$ si ha

$$\arctg x = \int_0^x \frac{dt}{1+t^2} = \int_0^x \sum_{k=0}^{\infty} (-1)^k t^{2k} dt \stackrel{(a)}{=} \sum_{k=0}^{\infty} (-1)^k \int_0^x t^{2k} dt = \sum_{k=0}^{\infty} (-1)^k \frac{x^{2k+1}}{2k+1},$$

dove in (a) si è usata la Proposizione 2.9.

Infine, se $x = \pm 1$, la serie diventa $\pm \sum_{k=0}^{\infty} \frac{(-1)^k}{2k+1}$, che converge per il criterio di Leibniz. La tesi segue allora dalla Proposizione 3.10 (1).

(8) Infatti, per ogni $x \in (-1, 1)$ si ha

$$\text{sett tgh } x = \int_0^x \frac{dt}{1-t^2} = \int_0^x \sum_{k=0}^{\infty} t^{2k} dt \stackrel{(a)}{=} \sum_{k=0}^{\infty} \int_0^x t^{2k} dt = \sum_{k=0}^{\infty} \frac{x^{2k+1}}{2k+1},$$

dove in (a) si è usata la Proposizione 2.9.

(9) (Primo metodo) Dalla formula di Taylor con resto integrale, per ogni $x \in (-1, 1)$, $n \in \mathbb{N} \cup \{0\}$, si ha $(1+x)^\alpha = \sum_{k=0}^n \binom{\alpha}{k} x^k + \frac{1}{n!} \int_0^x (x-t)^n \alpha(\alpha-1) \cdots (\alpha-n)(1+t)^{\alpha-n-1} dt$. Posto $s = \frac{x-t}{x(1+t)} \iff x-t = sx(1+t) \iff x(1-s) = t(1+sx) \iff t = \frac{x(1-s)}{1+sx}$, si ha $1+t = \frac{1+x}{1+sx}$, e $dt = -\frac{x(1+x)}{(1+sx)^2} ds$, e quindi

$$\begin{aligned} R_n(x) &:= \frac{1}{n!} \int_0^x (x-t)^n \alpha(\alpha-1) \cdots (\alpha-n)(1+t)^{\alpha-n-1} dt \\ &= \frac{\alpha(\alpha-1) \cdots (\alpha-n)}{n!} \int_1^0 (sx)^n \left(\frac{1+x}{1+sx}\right)^n \left(\frac{1+x}{1+sx}\right)^{\alpha-n-1} \frac{-x(1+x)}{(1+sx)^2} ds \\ &= \binom{\alpha}{n+1} (n+1)x^{n+1}(1+x)^\alpha \int_0^1 \frac{s^n}{(1+sx)^{\alpha+1}} ds. \end{aligned}$$

Allora

$$\begin{aligned} |R_n(x)| &\leq \left| \binom{\alpha}{n+1} \right| |x|^{n+1} (1+x)^\alpha \max_{s \in [0,1]} \frac{1}{|1+sx|^{\alpha+1}} \int_0^1 (n+1)s^n ds \\ &\leq \left| \binom{\alpha}{n+1} \right| |x|^{n+1} (1+x)^\alpha \max_{s \in [0,1]} \frac{1}{|1+sx|^{\alpha+1}}. \end{aligned}$$

Osserviamo che $\min_{s \in [0,1]} |1+sx| = \begin{cases} 1, & x \geq 0, \\ 1+x, & x < 0, \end{cases}$ per cui, posto, per ogni $x \in (-1, 1)$, $g_\alpha(x) :=$

$(1+x)^\alpha \max_{s \in [0,1]} \frac{1}{|1+sx|^{\alpha+1}}$, si ha $0 \leq g_\alpha(x) \leq \begin{cases} (1+x)^\alpha, & x \geq 0, \\ \frac{1}{1+x}, & x < 0, \end{cases}$ e quindi, per ogni $r \in (0, 1)$,

si ha $k_\alpha(r) := \sup_{|x|<r} g_\alpha(x) \leq \max \left\{ (1+r)^\alpha, (1-r)^\alpha, \frac{1}{1-r} \right\}$. Allora, per ogni $r \in (0, 1)$, si ha $\sup_{|x|<r} |R_n(x)| \leq \binom{\alpha}{n+1} r^{n+1} k_\alpha(r)$. Osserviamo che $\frac{\binom{\alpha}{n+1} r^{n+1}}{\binom{\alpha}{n} r^n} = r \frac{|\alpha(\alpha-1)\cdots(\alpha-n)|}{(n+1)!} \frac{n!}{|\alpha(\alpha-1)\cdots(\alpha-n+1)|} = r \frac{|\alpha-n|}{n+1} \rightarrow r < 1, n \rightarrow \infty$, per cui $\binom{\alpha}{n+1} r^{n+1} k_\alpha(r) \rightarrow 0, n \rightarrow \infty$, da cui la tesi segue.

(9) (Secondo metodo) La serie $\sum_{k=0}^{\infty} \binom{\alpha}{k} x^k$ ha raggio di convergenza 1, e quindi definisce $f_\alpha(x) := \sum_{k=0}^{\infty} \binom{\alpha}{k} x^k$, per ogni $x \in (-1, 1)$. Allora $f \in C^\infty(-1, 1)$, ed inoltre, per ogni $x \in (-1, 1)$, si ha

$$\begin{aligned} (1+x)f'_\alpha(x) &= \sum_{k=1}^{\infty} \binom{\alpha}{k} k x^{k-1} + \sum_{k=1}^{\infty} \binom{\alpha}{k} k x^k = \sum_{k=0}^{\infty} \binom{\alpha}{k+1} (k+1) x^k + \sum_{k=0}^{\infty} \binom{\alpha}{k} k x^k \\ &= \sum_{k=0}^{\infty} \left((k+1) \binom{\alpha}{k+1} + k \binom{\alpha}{k} \right) x^k, \end{aligned}$$

e poiché $(k+1) \binom{\alpha}{k+1} + k \binom{\alpha}{k} = \frac{\alpha(\alpha-1)\cdots(\alpha-k)}{k!} + \frac{\alpha(\alpha-1)\cdots(\alpha-k+1)}{(k-1)!} = \frac{\alpha(\alpha-1)\cdots(\alpha-k+1)}{k!} (\alpha-k+k) = \alpha \binom{\alpha}{k}$, si ha $(1+x)f'_\alpha(x) = \alpha \sum_{k=0}^{\infty} \binom{\alpha}{k} x^k = \alpha f_\alpha(x)$. Posto $g_\alpha(x) := (1+x)^{-\alpha} f_\alpha(x)$, $x \in (-1, 1)$, si ha allora $g'_\alpha(x) = -\alpha(1+x)^{-\alpha-1} f_\alpha(x) + (1+x)^{-\alpha} f'_\alpha(x) = (1+x)^{-\alpha-1} (-\alpha f_\alpha(x) + (1+x) f'_\alpha(x)) = 0$, e quindi g_α è costante, ed essendo $g_\alpha(0) = f_\alpha(0) = 1$, si ha $g_\alpha \equiv 1$, per cui $f_\alpha(x) = (1+x)^\alpha$, per ogni $x \in (-1, 1)$.

(9) ($\alpha > 0$) Dimostriamo che, se $\alpha > 0$, allora $\sum_{k=0}^{\infty} \binom{\alpha}{k} < \infty$, da cui segue $\sum_{k=0}^{\infty} \sup_{|x| \leq 1} \binom{\alpha}{k} x^k \leq \sum_{k=0}^{\infty} \binom{\alpha}{k} < \infty$, e quindi la convergenza uniforme della serie binomiale in $[-1, 1]$. Poniamo $a_k := \binom{\alpha}{k}$. Allora $\frac{a_{n+1}}{a_n} = \frac{|\alpha(\alpha-1)\cdots(\alpha-n)|}{(n+1)!} \frac{n!}{|\alpha(\alpha-1)\cdots(\alpha-n+1)|} = \frac{|\alpha-n|}{n+1} = \frac{n-\alpha}{n+1}$, se $n \geq [\alpha] + 1$. Quindi, se $n \geq [\alpha] + 1$, si ha $(n+1)a_{n+1} = (n-\alpha)a_n \iff na_n - (n+1)a_{n+1} = \alpha a_n \geq 0$, cioè na_n è decrescente, e quindi esiste $L := \lim_{n \rightarrow \infty} na_n \geq 0$. Consideriamo ora la serie $\sum_{n=0}^{\infty} (na_n - (n+1)a_{n+1}) = \lim_{n \rightarrow \infty} \sum_{k=0}^n (ka_k - (k+1)a_{k+1}) = \lim_{n \rightarrow \infty} -(n+1)a_{n+1} = -L$, che quindi è convergente. Poiché $a_n = \frac{1}{\alpha} (na_n - (n+1)a_{n+1})$, definitivamente, anche la serie $\sum_{n=0}^{\infty} a_n$ è convergente.

(10) Infatti, per ogni $x \in (-1, 1)$, si ha $\frac{d}{dx} \arcsin x = \frac{1}{\sqrt{1-x^2}} = \sum_{k=0}^{\infty} \binom{-1/2}{k} (-x^2)^k$, e poiché $\binom{-1/2}{k} = \frac{-\frac{1}{2}(-\frac{1}{2}-1)\cdots(-\frac{1}{2}-k+1)}{k!} = (-1)^k \frac{1}{2^k} \frac{1(1+2)\cdots(1+2k-2)}{k!} = (-1)^k \frac{(2k-1)!!}{2^k \cdot k!} = (-1)^k \frac{(2k-1)!!}{(2k)!!}$, si ha $\frac{d}{dx} \arcsin x = \frac{1}{\sqrt{1-x^2}} = \sum_{k=0}^{\infty} (-1)^k \frac{(2k-1)!!}{(2k)!!} (-x^2)^k = \sum_{k=0}^{\infty} \frac{(2k-1)!!}{(2k)!!} x^{2k}$. Quindi

$$\arcsin x = \int_0^x \frac{dt}{\sqrt{1-t^2}} = \int_0^x \sum_{k=0}^{\infty} \frac{(2k-1)!!}{(2k)!!} t^{2k} dt \stackrel{(a)}{=} \sum_{k=0}^{\infty} \frac{(2k-1)!!}{(2k)!!} \int_0^x t^{2k} dt = \sum_{k=0}^{\infty} \frac{(2k-1)!!}{(2k)!!} \frac{x^{2k+1}}{2k+1},$$

dove in (a) si è usata la Proposizione 2.9. □

3.3 Esercizi svolti

Esercizio 27. Studiare la convergenza puntuale e uniforme della serie di funzioni $\sum_{n=1}^{\infty} \frac{n^3}{n!} x^n$.

Svolgimento. Il raggio di convergenza è $\rho = \lim_{n \rightarrow \infty} \frac{n^3}{n!} \frac{(n+1)!}{(n+1)^3} = \lim_{n \rightarrow \infty} n(1+o(1)) = +\infty$. Quindi la serie converge puntualmente e assolutamente per ogni $x \in \mathbb{R}$. Converge uniformemente in ogni insieme chiuso e limitato di \mathbb{R} . □

Esercizio 28. Studiare la convergenza puntuale e uniforme della serie di funzioni $\sum_{n=1}^{\infty} \frac{(n!)^2}{(2n)!} x^n$.

Svolgimento. Il raggio di convergenza è $\rho = \lim_{n \rightarrow \infty} \frac{(n!)^2}{(2n)!} \frac{(2n+2)!}{((n+1)!)^2} = \lim_{n \rightarrow \infty} \frac{(2n+2)(2n+1)}{(n+1)^2} = 4$. Quindi la serie converge puntualmente e assolutamente per ogni $x \in (-4, 4)$. Per $x = -4$ la serie diventa $\sum_{n=1}^{\infty} (-1)^n \frac{(n!)^2}{(2n)!} 4^n$, che non converge perché [usando Stirling] $\frac{(n!)^2}{(2n)!} 4^n = \frac{n^{2n} e^{-2n} 2\pi n(1+o(1))}{(2n)^{2n} e^{-2n} \sqrt{2\pi n}(1+o(1))} 4^n = \sqrt{\pi n}(1+o(1)) \not\rightarrow 0$. Per $x = 4$ la serie diventa $\sum_{n=1}^{\infty} \frac{(n!)^2}{(2n)!} 4^n$, che non converge. La serie converge uniformemente in ogni insieme chiuso e limitato della forma $[-4 + \delta, 4 - \delta]$, con $\delta > 0$. \square

Esercizio 29. Studiare la convergenza puntuale e uniforme della serie di funzioni $\sum_{n=1}^{\infty} \frac{1}{n2^n} (x-1)^n$.

Svolgimento. Il raggio di convergenza è $\rho = \lim_{n \rightarrow \infty} \frac{1}{n2^n} (n+1)2^{n+1} = \lim_{n \rightarrow \infty} 2(1+o(1)) = 2$. Quindi la serie converge puntualmente e assolutamente per ogni $|x-1| < 2 \iff x \in (-1, 3)$. Per $x = -1$ la serie diventa $\sum_{n=1}^{\infty} \frac{(-1)^n}{n}$, che converge (ma non assolutamente) per Leibniz. Per $x = 3$ la serie diventa $\sum_{n=1}^{\infty} \frac{1}{n}$, che non converge. Usando il teorema di Abel, la serie converge uniformemente in ogni insieme chiuso e limitato della forma $[-1, 3 - \delta]$, con $\delta > 0$. \square

Esercizio 30. Studiare la convergenza puntuale e uniforme della serie di funzioni $\sum_{n=2}^{\infty} \frac{1}{n(\log n)^2} (x+1)^n$.

Svolgimento. Il raggio di convergenza è $\rho = \lim_{n \rightarrow \infty} \frac{1}{n(\log n)^2} (n+1)(\log(n+1))^2 = 1$. Quindi la serie converge puntualmente e assolutamente per ogni $|x+1| < 1 \iff x \in (-2, 0)$. Per $x = -2$ la serie diventa $\sum_{n=1}^{\infty} \frac{(-1)^n}{n(\log n)^2}$, che converge assolutamente. Per $x = 0$ la serie diventa $\sum_{n=1}^{\infty} \frac{1}{n(\log n)^2}$, che converge. Usando il teorema di Abel, la serie converge uniformemente in $[-2, 0]$. \square

Esercizio 31. Studiare la convergenza puntuale e uniforme della serie di funzioni $\sum_{n=1}^{\infty} \frac{2^{n^2}}{n!} x^n$.

Svolgimento. Il raggio di convergenza è $\rho = \lim_{n \rightarrow \infty} \frac{2^{n^2}}{n!} \frac{(n+1)!}{2^{(n+1)^2}} = \lim_{n \rightarrow \infty} \frac{n+1}{2^{2n+1}} = 0$. Quindi la serie converge solo per $x = 0$. \square

Esercizio 32. Studiare la convergenza puntuale e uniforme della serie di funzioni $\sum_{n=1}^{\infty} n(2x-1)^n$.

Svolgimento. La serie si riscrive $\sum_{n=1}^{\infty} n2^n(x-\frac{1}{2})^n$, il cui raggio di convergenza è $\rho = \lim_{n \rightarrow \infty} \frac{n2^n}{(n+1)2^{n+1}} = \frac{1}{2}$. Quindi la serie converge puntualmente e assolutamente per ogni $|x - \frac{1}{2}| < \frac{1}{2} \iff x \in (0, 1)$. Per $x = 0$ la serie diventa $\sum_{n=1}^{\infty} (-1)^n n$, che non converge. Per $x = 1$ la serie diventa $\sum_{n=1}^{\infty} n$, che non converge. La serie converge uniformemente in ogni insieme chiuso e limitato della forma $[\delta, 1 - \delta]$, con $\delta > 0$. \square

Esercizio 33. Studiare la convergenza puntuale e uniforme della serie di funzioni $\sum_{n=1}^{\infty} \frac{x^{n^2}}{(n!)^2}$.

Svolgimento. È una serie di potenze con tanti coefficienti nulli [solo i coefficienti a_{n^2} sono non nulli]. Per determinare l'insieme di convergenza assoluta usiamo il criterio del rapporto. Si ha $\lim_{n \rightarrow \infty} \frac{|x|^{(n+1)^2}}{((n+1)!)^2} \frac{(n!)^2}{|x|^{n^2}} = \lim_{n \rightarrow \infty} \frac{|x|^{2n+1}}{(n+1)^2} = \begin{cases} 0, & |x| \leq 1, \\ +\infty, & |x| > 1. \end{cases}$ Quindi la serie converge puntualmente e assolutamente per ogni $x \in [-1, 1]$, e uniformemente in $[-1, 1]$. \square

Esercizio 34. Studiare la convergenza puntuale e uniforme della serie di funzioni $\sum_{n=1}^{\infty} n^n x^{n^3}$.

Svolgimento. È una serie di potenze con tanti coefficienti nulli [solo i coefficienti a_{n^3} sono non nulli]. Per determinare l'insieme di convergenza assoluta usiamo il criterio del rapporto. Si ha $\lim_{n \rightarrow \infty} \frac{(n+1)^{n+1} |x|^{(n+1)^3}}{n^n |x|^{n^3}} = \lim_{n \rightarrow \infty} e(1 + o(1)) |x|^{3n^2 + 3n + 1} = \begin{cases} 0, & |x| < 1, \\ +\infty, & |x| \geq 1. \end{cases}$ Quindi la serie converge puntualmente e assolutamente per ogni $x \in (-1, 1)$, e uniformemente in ogni insieme chiuso e limitato della forma $[-1 + \delta, 1 - \delta]$, con $\delta > 0$. \square

Esercizio 35. Studiare la convergenza puntuale e uniforme della serie di funzioni $\sum_{n=1}^{\infty} 3^n x^{2n}$.

Svolgimento. È una serie di potenze nella variabile $y = \varphi(x) = x^2$. Il raggio di convergenza della serie $\sum_{n=1}^{\infty} 3^n y^n$ è $\rho = \lim_{n \rightarrow \infty} \frac{3^n}{3^{n+1}} = \frac{1}{3}$. Quindi la serie converge puntualmente e assolutamente per ogni $y \in (-\frac{1}{3}, \frac{1}{3})$. Per $y = \frac{1}{3}$ la serie diventa $\sum_{n=1}^{\infty} 1$, che non converge. Allora la serie data converge puntualmente e assolutamente per ogni $x \in (-\frac{1}{\sqrt{3}}, \frac{1}{\sqrt{3}})$, e uniformemente in ogni insieme chiuso e limitato della forma $[-\frac{1}{\sqrt{3}} + \delta, \frac{1}{\sqrt{3}} - \delta]$, con $\delta > 0$. \square

Esercizio 36. Studiare la convergenza puntuale e uniforme della serie di funzioni $\sum_{n=1}^{\infty} \frac{\log n}{n} (\arctg x)^n$.

Svolgimento. È una serie di potenze nella variabile $y = \varphi(x) = \operatorname{arctg} x$. Il raggio di convergenza della serie $\sum_{n=1}^{\infty} \frac{\log n}{n} y^n$ è $\rho = \lim_{n \rightarrow \infty} \frac{\log n}{n} \frac{n+1}{\log(n+1)} = 1$. Quindi la serie converge puntualmente e assolutamente per ogni $y \in (-1, 1)$. Per $y = -1$ la serie diventa $\sum_{n=1}^{\infty} (-1)^n \frac{\log n}{n}$, che converge (ma non assolutamente) per Leibniz [in quanto $\frac{\log n}{n}$ è decrescente per $n \geq 3$]. Per $y = 1$ la serie diventa $\sum_{n=1}^{\infty} \frac{\log n}{n}$, che non converge. Allora la serie data converge puntualmente per ogni $\operatorname{arctg} x \in [-1, 1) \iff x \in [-\frac{\pi}{4}, \frac{\pi}{4})$, e uniformemente in ogni insieme chiuso e limitato della forma $[-\frac{\pi}{4}, \frac{\pi}{4} - \delta]$, con $\delta > 0$. \square

Esercizio 37. Studiare la convergenza puntuale e uniforme della serie di funzioni $\sum_{n=1}^{\infty} n^5 e^{nx}$.

Svolgimento. È una serie di potenze nella variabile $y = \varphi(x) = e^x$. Il raggio di convergenza della serie $\sum_{n=1}^{\infty} n^5 y^n$ è $\rho = \lim_{n \rightarrow \infty} \frac{n^5}{(n+1)^5} = 1$. Quindi la serie converge puntualmente e assolutamente per ogni $y \in (-1, 1)$. Per $y = 1$ la serie diventa $\sum_{n=1}^{\infty} n^5$, che non converge. Allora la serie data converge puntualmente per ogni $e^x \in (-1, 1) \iff x \in (-\infty, 0)$, e uniformemente in ogni insieme della forma $(-\infty, -\delta]$, con $\delta > 0$, perché $\varphi((-\infty, -\delta]) = (0, e^{-\delta}]$, dove la serie $\sum_{n=1}^{\infty} n^5 y^n$ converge uniformemente. \square

Esercizio 38. Studiare la convergenza puntuale e uniforme della serie di funzioni $\sum_{n=1}^{\infty} x^n e^{-nx^2}$.

Svolgimento. È una serie di potenze nella variabile $y = \varphi(x) = x e^{-x^2}$. Il raggio di convergenza della serie $\sum_{n=1}^{\infty} y^n$ è $\rho = 1$. Quindi la serie converge puntualmente e assolutamente per ogni $y \in (-1, 1)$. Per $y = \pm 1$ la serie non converge. Allora la serie data converge puntualmente per ogni $x e^{-x^2} \in (-1, 1) \iff x \in \mathbb{R}$, e uniformemente in \mathbb{R} , perché $\varphi(\mathbb{R}) = [-\frac{1}{\sqrt{2e}}, \frac{1}{\sqrt{2e}}]$, dove la serie $\sum_{n=1}^{\infty} y^n$ converge uniformemente. \square

Esercizio 39. Studiare la convergenza puntuale e uniforme della serie di funzioni $\sum_{n=1}^{\infty} \frac{n^3 + n}{e^{2n} + 2^n} x^{2n} (\log |x|)^n$.

Svolgimento. È una serie di potenze nella variabile $y = \varphi(x) = x^2 \log |x|$. Il raggio di convergenza della serie $\sum_{n=1}^{\infty} \frac{n^3 + n}{e^{2n} + 2^n} y^n$ è $\rho = e^2$. Quindi la serie converge puntualmente e assolutamente per ogni $y \in (-e^2, e^2)$. Per $y = \pm e^2$ la serie non converge in quanto $\frac{n^3 + n}{e^{2n} + 2^n} e^n = n^3(1 + o(1)) \not\rightarrow 0$. Allora la serie data converge puntualmente per ogni $x^2 \log |x| \in (-e^2, e^2) \iff x \in (-e, e)$, e uniformemente in ogni insieme della forma $[-e + \delta, e - \delta]$, con $\delta > 0$. \square

3.4 Esercizi proposti

Esercizio 40. Trovare il generico intervallo di convergenza uniforme per le seguenti serie.

- (1) $\sum_{n=1}^{+\infty} \frac{x^{2n-1}}{n(2n-1)},$
- (2) $\sum_{n=1}^{+\infty} \frac{x^n \log n}{1 + \sqrt{n}},$
- (3) $\sum_{n=2}^{+\infty} \frac{(x - \frac{1}{2})^n}{\log n},$
- (4) $\sum_{n=1}^{+\infty} (-1)^n (n+1)x^n,$
- (5) $\sum_{n=1}^{+\infty} \frac{(3-x)^n}{3^n \sqrt{n^2-1}},$
- (6) $\sum_{n=1}^{+\infty} \frac{n^2(x+1)^n}{\sqrt{n^2-1} + 3^n},$
- (7) $\sum_{n=1}^{+\infty} n \left(\frac{2}{3}\right)^n \left(x - \frac{3}{2}\right)^n,$
- (8) $\sum_{n=1}^{+\infty} n e^{-nx},$
- (9) $\sum_{n=1}^{+\infty} n e^{-nx^2},$
- (10) $\sum_{n=1}^{+\infty} \frac{2^{n+1}}{e^{nx}},$
- (11) $\sum_{n=2}^{+\infty} \frac{e^{-n|x^2-x|}}{n(\log n)^2},$
- (12) $\sum_{n=1}^{+\infty} \frac{1}{n^2 x^n},$
- (13) $\sum_{n=1}^{+\infty} \frac{(-1)^{n+1} \sqrt{n^2-1}}{(x+1)^n},$
- (14) $\sum_{n=1}^{+\infty} \frac{2^n (\sin x)^n}{n},$
- (15) $\sum_{n=1}^{+\infty} (n^2+2) \left(\frac{x+1}{x-1}\right)^n,$

$$(16) \sum_{n=1}^{+\infty} (4-3^n)^n \operatorname{tg} \left(\frac{\sqrt{n}+2}{n+n^2} \right),$$

$$(17) \sum_{n=1}^{+\infty} |x|^{nx},$$

4 Serie di Fourier

4.1 Teoria

Definizione 4.1 (Serie di Fourier con coefficienti reali). Siano $T > 0$, $\omega := \frac{2\pi}{T}$, $f : \mathbb{R} \rightarrow \mathbb{R}$, T -periodica, $f \in \mathcal{R}^*[-\frac{T}{2}, \frac{T}{2}]$. Si dicono coefficienti di Fourier di f i numeri

$$a_n := \frac{2}{T} \int_{-T/2}^{T/2} f(x) \cos(n\omega x) dx, \quad n \in \mathbb{N} \cup \{0\},$$

$$b_n := \frac{2}{T} \int_{-T/2}^{T/2} f(x) \sin(n\omega x) dx, \quad n \in \mathbb{N}.$$

Ad f si associa la serie di Fourier $\frac{a_0}{2} + \sum_{n=1}^{\infty} (a_n \cos(n\omega x) + b_n \sin(n\omega x))$.

Definizione 4.2 (Serie di Fourier con coefficienti complessi). Siano $T > 0$, $f : \mathbb{R} \rightarrow \mathbb{R}$, T -periodica, $f \in \mathcal{R}^*[-\frac{T}{2}, \frac{T}{2}]$. Si dicono coefficienti di Fourier (complessi) di f i numeri

$$c_n \equiv \hat{f}(n) := \frac{1}{T} \int_{-T/2}^{T/2} f(x) e^{-in\omega x} dx, \quad n \in \mathbb{Z}.$$

Ad f si associa la serie di Fourier $\sum_{n=-\infty}^{\infty} c_n e^{in\omega x}$.

Proposizione 4.3. Siano $T > 0$, $\omega := \frac{2\pi}{T}$, $f : \mathbb{R} \rightarrow \mathbb{R}$, T -periodica, $f \in \mathcal{R}^*[-\frac{T}{2}, \frac{T}{2}]$. Allora, per ogni $n \in \mathbb{N} \cup \{0\}$, si ha

- (1) $c_{-n} = \overline{c_n}$,
- (2) $c_n = \frac{1}{2}(a_n - ib_n)$, dove $b_0 := 0$,
- (3) $a_n = 2\operatorname{Re} c_n = c_n + c_{-n}$, $b_n = 2\operatorname{Im} c_n = i(c_n - c_{-n})$.

Dim. (1) Si ha $c_{-n} = \frac{1}{T} \int_{-T/2}^{T/2} f(x) e^{in\omega x} dx = \overline{c_n}$.

(2) Si ha $c_n = \frac{1}{T} \int_{-T/2}^{T/2} f(x) e^{-in\omega x} dx = \frac{1}{T} \int_{-T/2}^{T/2} f(x) [\cos(n\omega x) - i \sin(n\omega x)] dx = \frac{1}{2}(a_n - ib_n)$.

(3) Segue da (1) e (2). □

Proposizione 4.4. Siano $T > 0$, $\omega := \frac{2\pi}{T}$, $h, k \in \mathbb{Z}$. Allora $\frac{1}{T} \int_{-T/2}^{T/2} e^{ik\omega x} e^{-ih\omega x} dx = \delta_{hk}$.

Dim. Infatti, se $h = k$ il risultato è evidente. Sia, allora $h \neq k$, per cui $\frac{1}{T} \int_{-T/2}^{T/2} e^{ik\omega x} e^{-ih\omega x} dx = \frac{1}{T} \int_{-T/2}^{T/2} e^{i(k-h)\omega x} dx = \frac{1}{T} \left[\frac{1}{(k-h)\omega} e^{i(k-h)\omega x} \right]_{-T/2}^{T/2} = \frac{1}{2\pi(k-h)} (e^{i(k-h)\pi} - e^{-i(k-h)\pi}) = \frac{2i}{2\pi(k-h)} \sin((k-h)\pi) = 0$. \square

Proposizione 4.5. Siano $T > 0$, $\omega := \frac{2\pi}{T}$, $f : \mathbb{R} \rightarrow \mathbb{R}$, T -periodica, $f \in \mathcal{R}^*[-\frac{T}{2}, \frac{T}{2}]$. Allora

- (1) f pari $\implies b_n = 0$, per ogni $n \in \mathbb{N}$,
- (2) f dispari $\implies a_n = 0$, per ogni $n \in \mathbb{N} \cup \{0\}$.

Dim. Seguono dal fatto che $\cos(n\omega x)$ è pari in $[-\frac{T}{2}, \frac{T}{2}]$ e $\sin(n\omega x)$ è dispari in $[-\frac{T}{2}, \frac{T}{2}]$. \square

Proposizione 4.6. Siano $T > 0$, $\omega := \frac{2\pi}{T}$, $f : \mathbb{R} \rightarrow \mathbb{R}$, T -periodica, $f \in \mathcal{R}^*[-\frac{T}{2}, \frac{T}{2}]$. Allora, per ogni $\alpha \in \mathbb{R}$, $n \in \mathbb{N} \cup \{0\}$, si ha

$$\begin{aligned} \frac{2}{T} \int_{-T/2}^{T/2} f(x) \cos(n\omega x) dx &= \frac{2}{T} \int_{\alpha-T/2}^{\alpha+T/2} f(x) \cos(n\omega x) dx, \\ \frac{2}{T} \int_{-T/2}^{T/2} f(x) \sin(n\omega x) dx &= \frac{2}{T} \int_{\alpha-T/2}^{\alpha+T/2} f(x) \sin(n\omega x) dx, \\ \frac{1}{T} \int_{-T/2}^{T/2} f(x) e^{-in\omega x} dx &= \frac{1}{T} \int_{\alpha-T/2}^{\alpha+T/2} f(x) e^{-in\omega x} dx. \end{aligned}$$

Dim. Seguono dalla T -periodicità delle funzioni integrande. \square

Definizione 4.7 (Polinomio trigonometrico). Siano $T > 0$, $\omega := \frac{2\pi}{T}$, $n \in \mathbb{N} \cup \{0\}$, $\alpha_k, \beta_k \in \mathbb{R}$, $k = 0, \dots, n$. Si dice polinomio trigonometrico di periodo T e grado n la funzione

$$\sigma(x) := \frac{\alpha_0}{2} + \sum_{k=1}^n \left(\alpha_k \cos(k\omega x) + \beta_k \sin(k\omega x) \right).$$

Indichiamo con $\mathcal{P}_{T,n}$ l'insieme di tali polinomi trigonometrici.

Osservazione 4.8. Osserviamo che, posto $\gamma_k := \frac{1}{2}(\alpha_k - i\beta_k)$, $\gamma_{-k} := \overline{\gamma_k}$, si ha $\sigma_k = \sum_{k=-n}^n \gamma_n e^{in\omega x}$. Infatti,

$$\begin{aligned} \sum_{k=-n}^n \gamma_k e^{ik\omega x} &= \frac{\alpha_0}{2} + \sum_{k=0}^n \frac{1}{2} (\alpha_k - i\beta_k) \left(\cos(k\omega x) + i \sin(k\omega x) \right) \\ &\quad + \sum_{k=0}^n \frac{1}{2} (\alpha_k + i\beta_k) \left(\cos(k\omega x) - i \sin(k\omega x) \right) \\ &= \frac{\alpha_0}{2} + \sum_{k=1}^n \left(\alpha_k \cos(k\omega x) + \beta_k \sin(k\omega x) \right). \end{aligned}$$

Proposizione 4.9. Siano $T > 0$, $f : \mathbb{R} \rightarrow \mathbb{R}$, T -periodica, $f \in \mathcal{R}^*[-\frac{T}{2}, \frac{T}{2}]$, e siano $\{a_n, b_n : n \in \mathbb{N} \cup \{0\}\}$, $\{c_n : n \in \mathbb{Z}\}$ i suoi coefficienti di Fourier. Poniamo, per ogni $n \in \mathbb{N} \cup \{0\}$,

$$s_n(x) := \frac{a_0}{2} + \sum_{k=1}^n \left(a_k \cos(k\omega x) + b_k \sin(k\omega x) \right) = \sum_{k=-n}^n c_k e^{ik\omega x}.$$

Allora, per ogni $n \in \mathbb{N} \cup \{0\}$,

(1) s_n minimizza lo scarto quadratico medio da f tra tutti i polinomi trigonometrici di periodo T e di grado n , cioè per ogni $\sigma \in \mathcal{P}_{T,n}$

$$\frac{1}{T} \int_{-T/2}^{T/2} |f(x) - s_n(x)|^2 dx \leq \frac{1}{T} \int_{-T/2}^{T/2} |f(x) - \sigma(x)|^2 dx,$$

$$\begin{aligned} (2) \quad \frac{1}{T} \int_{-T/2}^{T/2} |f(x) - s_n(x)|^2 dx &= \frac{1}{T} \int_{-T/2}^{T/2} |f(x)|^2 dx - \sum_{k=-n}^n |c_k|^2 \\ &= \frac{1}{T} \int_{-T/2}^{T/2} |f(x)|^2 dx - \frac{a_0^2}{4} - \frac{1}{2} \sum_{k=1}^n (a_k^2 + b_k^2), \end{aligned}$$

$$(3) \quad \frac{2}{T} \int_{-T/2}^{T/2} |f(x)|^2 dx \geq \frac{a_0^2}{2} + \sum_{k=1}^n (a_k^2 + b_k^2) \quad [\text{Disuguaglianza di Bessel}].$$

Dim. (1) Sia $\sigma(x) := \sum_{k=-n}^n \gamma_k e^{ik\omega x}$ un polinomio trigonometrico, e calcoliamo

$$\begin{aligned} \frac{1}{T} \int_{-T/2}^{T/2} |f(x) - \sigma(x)|^2 dx &= \frac{1}{T} \int_{-T/2}^{T/2} |f(x)|^2 dx - \frac{1}{T} \int_{-T/2}^{T/2} \overline{f(x)} \sum_{k=-n}^n \gamma_k e^{ik\omega x} dx \\ &\quad - \frac{1}{T} \int_{-T/2}^{T/2} f(x) \sum_{k=-n}^n \overline{\gamma_k} e^{-ik\omega x} dx + \frac{1}{T} \int_{-T/2}^{T/2} \sum_{h,k=-n}^n \overline{\gamma_h} \gamma_k e^{i\frac{2\pi(k-h)}{T}x} dx \\ &= \frac{1}{T} \int_{-T/2}^{T/2} |f(x)|^2 dx - \sum_{k=-n}^n (\overline{c_k} \gamma_k + c_k \overline{\gamma_k}) + \sum_{k=-n}^n |\gamma_k|^2 \\ &= \frac{1}{T} \int_{-T/2}^{T/2} |f(x)|^2 dx + \sum_{k=-n}^n (|\gamma_k|^2 - \overline{c_k} \gamma_k - c_k \overline{\gamma_k} + |c_k|^2) - \sum_{k=-n}^n |c_k|^2 \\ &= \frac{1}{T} \int_{-T/2}^{T/2} |f(x)|^2 dx + \sum_{k=-n}^n |\gamma_k - c_k|^2 - \sum_{k=-n}^n |c_k|^2. \end{aligned}$$

Ma allora il minimo valore dello scarto quadratico medio si ha per $\gamma_k = c_k$, per ogni $k = -n, \dots, n$, cioè per $\sigma = s_n$.

(2) Dalla formula finale di (1) si ha

$$\begin{aligned} \frac{1}{T} \int_{-T/2}^{T/2} |f(x) - s_n(x)|^2 dx &= \frac{1}{T} \int_{-T/2}^{T/2} |f(x)|^2 dx - \sum_{k=-n}^n |c_k|^2 \\ &= \frac{1}{T} \int_{-T/2}^{T/2} |f(x)|^2 dx - \frac{a_0^2}{4} - 2 \sum_{k=1}^n \left| \frac{a_k - ib_k}{2} \right|^2 \\ &= \frac{1}{T} \int_{-T/2}^{T/2} |f(x)|^2 dx - \frac{a_0^2}{4} - \frac{1}{2} \sum_{k=1}^n (a_k^2 + b_k^2). \end{aligned}$$

(3) Segue da (2). □

Proposizione 4.10 (Lemma di Riemann-Lebesgue). *Siano $T > 0$, $f : \mathbb{R} \rightarrow \mathbb{R}$, T -periodica, $f \in \mathcal{R}^*[-\frac{T}{2}, \frac{T}{2}]$. Allora, per $n \rightarrow \infty$, si ha*

$$a_n = \frac{2}{T} \int_{-T/2}^{T/2} f(x) \cos(n\omega x) dx \rightarrow 0,$$

$$b_n = \frac{2}{T} \int_{-T/2}^{T/2} f(x) \sin(n\omega x) dx \rightarrow 0.$$

Dim. Segue dalla disuguaglianza di Bessel che $\sum_{n=1}^{\infty} (a_n^2 + b_n^2) < \infty$, e quindi $a_n, b_n \rightarrow 0$. □

Proposizione 4.11. *Siano $T > 0$, $k \in \mathbb{N}$, $f \in C^k(\mathbb{R})$. Allora $a_n, b_n = o(\frac{1}{n^k})$, $n \rightarrow \infty$.*

Dim. Siano $a_n^{(k)} := \frac{2}{T} \int_{-T/2}^{T/2} f^{(k)}(x) \cos(n\omega x) dx$, $b_n^{(k)} = \frac{2}{T} \int_{-T/2}^{T/2} f^{(k)}(x) \sin(n\omega x) dx$ i coefficienti di Fourier di $f^{(k)} \in C^0(\mathbb{R})$. Integrando per parti si ha

$$\begin{aligned} a_n^{(k)} &= \frac{2}{T} \int_{-T/2}^{T/2} f^{(k)} \cos(n\omega t) dt = \frac{2}{T} \left[f^{(k-1)}(t) \cos(n\omega t) \right]_{-T/2}^{T/2} + \frac{2}{T} n\omega \int_{-T/2}^{T/2} f^{(k-1)}(t) \sin(n\omega t) dt \\ &= \frac{2}{T} \left[f^{(k-1)}\left(\frac{T}{2}\right) - f^{(k-1)}\left(-\frac{T}{2}\right) \right] \cos(n\pi) + n\omega b_n^{(k-1)} = n\omega b_n^{(k-1)}, \\ b_n^{(k)} &= \frac{2}{T} \int_{-T/2}^{T/2} f^{(k)} \sin(n\omega t) dt = \frac{2}{T} \left[f^{(k-1)}(t) \sin(n\omega t) \right]_{-T/2}^{T/2} - \frac{2}{T} n\omega \int_{-T/2}^{T/2} f^{(k-1)}(t) \cos(n\omega t) dt \\ &= \frac{2}{T} \left[f^{(k-1)}\left(\frac{T}{2}\right) \sin(n\pi) + f^{(k-1)}\left(-\frac{T}{2}\right) \sin(n\pi) \right] - n\omega a_n^{(k-1)} = -n\omega a_n^{(k-1)}. \end{aligned}$$

Iterando questo procedimento, si ottiene $|a_n^{(k)}| = \begin{cases} (n\omega)^k |a_n|, & k \text{ pari,} \\ (n\omega)^k |b_n|, & k \text{ dispari,} \end{cases}$ $|b_n^{(k)}| = \begin{cases} (n\omega)^k |b_n|, & k \text{ pari,} \\ (n\omega)^k |a_n|, & k \text{ dispari,} \end{cases}$

da cui segue $|a_n| = \begin{cases} \frac{1}{(n\omega)^k} |a_n^{(k)}|, & k \text{ pari,} \\ \frac{1}{(n\omega)^k} |b_n^{(k)}|, & k \text{ dispari,} \end{cases}$ $|b_n| = \begin{cases} \frac{1}{(n\omega)^k} |b_n^{(k)}|, & k \text{ pari,} \\ \frac{1}{(n\omega)^k} |a_n^{(k)}|, & k \text{ dispari.} \end{cases}$

Poiché $|a_n^{(k)}|, |b_n^{(k)}| \rightarrow 0$ per la Proposizione 4.10, la tesi segue. □

Vogliamo ora dimostrare dei teoremi di convergenza puntuale o uniforme delle serie di Fourier.

Definizione 4.12.

- (1) Sia $f : [a, b] \rightarrow \mathbb{R}$. Essa si dice continua a tratti in $[a, b]$ se esiste $\{x_1, \dots, x_N\} \subset [a, b]$ tale che f è continua in $[a, b] \setminus \{x_1, \dots, x_N\}$, ed esistono $f(x_k^\pm) := \lim_{x \rightarrow x_k^\pm} f(x) \in \mathbb{R}$, per ogni $k = 1, \dots, N$.
- (2) Sia $f : \mathbb{R} \rightarrow \mathbb{R}$. Essa si dice continua a tratti in \mathbb{R} , se è continua a tratti in $[a, b]$, per ogni $[a, b] \subset \mathbb{R}$.

Proposizione 4.13 (Convergenza puntuale). *Siano $T > 0$, $f : \mathbb{R} \rightarrow \mathbb{R}$, T -periodica, continua a tratti, e $s_n(x) := \sum_{k=-n}^n \hat{f}(k) e^{ik\omega x}$, $x \in \mathbb{R}$. Sia $x_0 \in \mathbb{R}$ tale che esistono $\lim_{x \rightarrow x_0^\pm} \frac{f(x) - f(x_0^\pm)}{x - x_0} \in \mathbb{R}$ [in particolare, se f è continua in x_0 , esistono $f'_\pm(x_0) \in \mathbb{R}$]. Allora $s_n(x_0) \rightarrow \frac{1}{2}(f(x_0^+) + f(x_0^-))$, $n \rightarrow \infty$.*

Proposizione 4.14 (Convergenza uniforme). *Siano $T > 0$, $f \in C^0(\mathbb{R})$, T -periodica, f' continua a tratti, e $s_n(x) := \frac{a_0}{2} + \sum_{n=1}^{\infty} (a_n \cos(n\omega x) + b_n \sin(n\omega x))$, $x \in \mathbb{R}$. Allora $s_n \rightrightarrows f$ in \mathbb{R} .*

Dim. Dalle ipotesi segue che $f' \in \mathcal{R}[-\frac{T}{2}, \frac{T}{2}]$, e quindi, detti, $\{\alpha_n, \beta_n : n \in \mathbb{N} \cup \{0\}\}$ i suoi coefficienti di Fourier, dalla disuguaglianza di Bessel [vedi la Proposizione 4.9 (3)] si ha $\sum_{n=1}^{\infty} (\alpha_n^2 + \beta_n^2) < \infty$. Ora

$$\begin{aligned} \alpha_n &= \frac{2}{T} \int_{-T/2}^{T/2} f'(t) \cos(n\omega t) dt = \frac{2}{T} [f(t) \cos(n\omega t)]_{-T/2}^{T/2} + \frac{2}{T} n\omega \int_{-T/2}^{T/2} f(t) \sin(n\omega t) dt \\ &= \frac{2}{T} \left[f\left(\frac{T}{2}\right) - f\left(-\frac{T}{2}\right) \right] \cos(n\pi) + n\omega b_n = n\omega b_n, \\ \beta_n &= \frac{2}{T} \int_{-T/2}^{T/2} f'(t) \sin(n\omega t) dt = \frac{2}{T} [f(t) \sin(n\omega t)]_{-T/2}^{T/2} - \frac{2}{T} n\omega \int_{-T/2}^{T/2} f(t) \cos(n\omega t) dt \\ &= \frac{2}{T} \left[f\left(\frac{T}{2}\right) \sin(n\pi) + f\left(-\frac{T}{2}\right) \sin(n\pi) \right] - n\omega a_n = -n\omega a_n, \end{aligned}$$

per cui $\sum_{n=1}^{\infty} n^2(a_n^2 + b_n^2) < \infty$. Poiché $|a_n| = n|a_n| \cdot \frac{1}{n} \leq \frac{1}{2}(n^2 a_n^2 + \frac{1}{n^2})$, e $|b_n| \leq \frac{1}{2}(n^2 b_n^2 + \frac{1}{n^2})$, si ha $\sum_{n=1}^{\infty} (|a_n| + |b_n|) \leq \frac{1}{2} \sum_{n=1}^{\infty} n^2(a_n^2 + b_n^2) + \sum_{n=1}^{\infty} \frac{1}{n^2} < \infty$. Ma allora $\frac{a_0}{2} + \sum_{n=1}^{\infty} (a_n \cos(n\omega t) + b_n \sin(n\omega t))$ converge totalmente, e per il criterio di Weierstrass [vedi la Proposizione 2.5] si ha la tesi. \square

Proposizione 4.15 (Derivazione). *Siano $T > 0$, $f \in C^0(\mathbb{R})$, T -periodica, f' continua a tratti, $x_0 \in \mathbb{R}$ tale che esistono $\lim_{x \rightarrow x_0^\pm} \frac{f'(x) - f'(x_0^\pm)}{x - x_0} \in \mathbb{R}$, e*

$$s_n(x) := \frac{a_0}{2} + \sum_{n=1}^{\infty} (a_n \cos(n\omega x) + b_n \sin(n\omega x)), \quad x \in \mathbb{R}.$$

Allora $s'_n(x_0) \rightarrow \frac{1}{2}(f'_+(x_0) + f'_-(x_0))$, $n \rightarrow \infty$.

Proposizione 4.16 (Integrazione). *Siano $T > 0$, $f : \mathbb{R} \rightarrow \mathbb{R}$, T -periodica e continua a tratti, $\{a_n, b_n : n \in \mathbb{N} \cup \{0\}\}$ i suoi coefficienti di Fourier, $x_0, x \in \mathbb{R}$. Allora $\int_{x_0}^x f(t) dt = \int_{x_0}^x \frac{a_0}{2} dt + \sum_{n=1}^{\infty} \int_{x_0}^x (a_n \cos(n\omega t) + b_n \sin(n\omega t)) dt$.*

4.2 Esercizi svolti

Esercizio 41. Si trovi lo sviluppo di Fourier della funzione $f(x) = \sin^2 x$.

Svolgimento. La funzione f può essere riscritta come:

$$f(x) = \frac{1}{2} - \frac{1}{2} \cos 2x$$

e di conseguenza gli unici coefficienti di Fourier diversi da zero sono

$$a_0 = 1, \quad a_2 = \frac{1}{2}.$$

\square

Esercizio 42.

- (i) Disegnare il prolungamento periodico f della funzione $g(x) = |x|$, per $x \in (-\pi, \pi]$.
- (ii) Scrivere la corrispondente serie di Fourier per f , e calcolarla per $x = 0$.
- (iii) Usare il risultato ottenuto per calcolare la somma della serie $\sum_{k=0}^{\infty} \frac{1}{(2k+1)^2}$.

Svolgimento. (i)

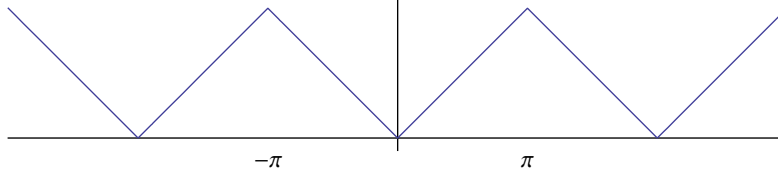


Figure 5: Grafico per l'esercizio 42

- (ii) Poiché f è pari, i coefficienti di Fourier b_k sono nulli. Per quanto riguarda il coefficiente a_0 :

$$a_0 = \frac{1}{\pi} \int_{-\pi}^{\pi} f(x) dx = \frac{2}{\pi} \int_0^{\pi} g(x) dx = \frac{2}{\pi} \int_0^{\pi} x dx = \frac{2}{\pi} \left[\frac{1}{2} x^2 \right]_0^{\pi} = \pi,$$

e per $k \geq 1$ si ottiene:

$$\begin{aligned} a_k &= \frac{1}{\pi} \int_{-\pi}^{\pi} f(x) \cos kx dx = \frac{2}{\pi} \int_0^{\pi} g(x) \cos kx dx = \frac{2}{\pi} \int_0^{\pi} x \cos kx dx \\ &\stackrel{(a)}{=} \frac{2}{\pi} \left[\frac{1}{k} x \sin(kx) + \frac{1}{k^2} \cos(kx) \right]_0^{\pi} \\ &= \frac{2}{\pi} \frac{1}{k^2} (\cos(k\pi) - 1) = \begin{cases} 0 & k = 2n \\ -\frac{4}{\pi(2n+1)^2} & k = 2n+1, \end{cases} \end{aligned}$$

dove in (a) si è usato il risultato $\int x \cos kx dx = \frac{1}{k} x \sin(kx) - \frac{1}{k} \int \sin(kx) dx = \frac{1}{k} x \sin(kx) + \frac{1}{k^2} \cos(kx)$.

Osserviamo che f soddisfa le ipotesi del teorema di Dirichlet in ogni punto $x \in \mathbb{R}$. Per il teorema di Dirichlet, concludiamo, per ogni $x \in \mathbb{R}$,

$$f(x) = \frac{\pi}{2} - \frac{4}{\pi} \sum_{n=0}^{\infty} \frac{1}{(2n+1)^2} \cos((2n+1)x).$$

Quindi, per $x = 0$, si ha $\frac{\pi}{2} - \frac{4}{\pi} \sum_{n=0}^{\infty} \frac{1}{(2n+1)^2} = f(0) = 0$.

- (iii) Da (ii) segue che $\sum_{n=0}^{\infty} \frac{1}{(2n+1)^2} = \frac{\pi^2}{8}$. □

Esercizio 43.

- (i) Disegnare il prolungamento periodico f della funzione $g(x) = x$, per $x \in (-\pi, \pi]$.
- (ii) Scrivere la corrispondente serie di Fourier per f , e calcolarla per $x = \pi$.

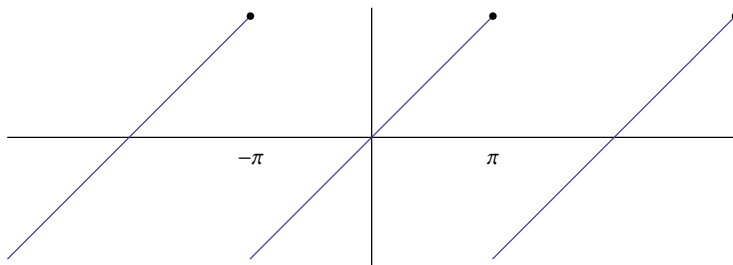


Figure 6: Grafico per l'esercizio 43

(iii) Usare il risultato ottenuto per calcolare la somma della serie $\sum_{k=1}^{\infty} \frac{1}{k^2}$.

Svolgimento. (i)

(ii) Poiché f è dispari, i coefficienti di Fourier a_k sono nulli. Per quanto riguarda i coefficienti b_k si ottiene:

$$\begin{aligned} b_k &= \frac{1}{\pi} \int_{-\pi}^{\pi} f(x) \sin kx \, dx = \frac{2}{\pi} \int_0^{\pi} g(x) \sin kx \, dx = \\ &= \frac{2}{\pi} \int_0^{\pi} x \sin kx \, dx = \frac{2}{\pi} \left[-\frac{x}{k} \cos(kx) + \frac{1}{k^2} \sin(kx) \right]_0^{\pi} \\ &= -\frac{2}{k} \cos(k\pi) = (-1)^{k+1} \frac{2}{k}. \end{aligned}$$

Osserviamo che f soddisfa le ipotesi del teorema di Dirichlet in ogni punto $x \in \mathbb{R}$. Per il teorema di Dirichlet, concludiamo

$$f(x) = 2 \sum_{n=1}^{\infty} \frac{(-1)^{n+1}}{n} \sin(nx), \quad x \neq (2k+1)\pi, \quad k \in \mathbb{Z},$$

mentre, per $x = \pi$ si ha $2 \sum_{n=1}^{\infty} \frac{(-1)^{n+1}}{n} \sin(n\pi) = 0 = \frac{f(x^+) + f(x^-)}{2}$.

(iii) Osserviamo che dall'uguaglianza di Parseval si ottiene $\sum_{k=1}^{\infty} \frac{1}{n^2} = \frac{1}{4\pi} \int_{-\pi}^{\pi} x^2 \, dx = \frac{1}{12\pi} [x^3]_{-\pi}^{\pi} = \frac{1}{6} \pi^2$. □

Esercizio 44.

(i) Disegnare il prolungamento periodico f della funzione $g(x) = x^2$, per $x \in (-\pi, \pi]$.

(ii) Scrivere la corrispondente serie di Fourier per f , e calcolarla per $x = \pi$.

(iii) Usare il risultato ottenuto per calcolare la somma della serie $\sum_{k=1}^{\infty} \frac{1}{k^2}$.

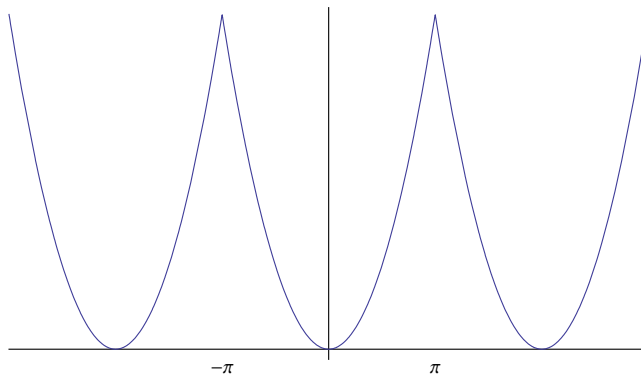


Figure 7: Grafico per l'esercizio 44

Svolgimento. (i)

(ii) Poiché f è pari, i coefficienti di Fourier b_k sono nulli. Per quanto riguarda il coefficiente a_0 :

$$a_0 = \frac{1}{\pi} \int_{-\pi}^{\pi} f(x) dx = \frac{2}{\pi} \int_0^{\pi} g(x) dx = \frac{2}{\pi} \int_0^{\pi} x^2 dx = \frac{2}{\pi} \left[\frac{1}{3} x^3 \right]_0^{\pi} = \frac{2}{3} \pi^2,$$

e per $k \geq 1$ si ottiene:

$$\begin{aligned} a_k &= \frac{1}{\pi} \int_{-\pi}^{\pi} f(x) \cos kx dx = \frac{2}{\pi} \int_0^{\pi} g(x) \cos kx dx = \frac{2}{\pi} \int_0^{\pi} x^2 \cos kx dx \\ &\stackrel{(a)}{=} \frac{2}{\pi} \left[\frac{1}{k} x^2 \sin(kx) + \frac{2}{k^2} x \cos(kx) - \frac{2}{k^3} \sin(kx) \right]_0^{\pi} \\ &= \frac{2}{\pi} \frac{2}{k^2} \pi \cos(k\pi) = (-1)^k \frac{4}{k^2}, \end{aligned}$$

dove in (a) si è usato il risultato $\int x^2 \cos kx dx = \frac{1}{k} x^2 \sin(kx) - \frac{2}{k} \int x \sin(kx) dx = \frac{1}{k} x^2 \sin(kx) + \frac{2}{k^2} x \cos(kx) - \frac{2}{k^3} \sin(kx)$.

Osserviamo che f soddisfa le ipotesi del teorema di Dirichlet in ogni punto $x \in \mathbb{R}$. Per il teorema di Dirichlet, concludiamo, per ogni $x \in \mathbb{R}$,

$$f(x) = \frac{1}{3} \pi^2 + 4 \sum_{n=1}^{\infty} \frac{(-1)^n}{n^2} \cos(nx).$$

Quindi, per $x = \pi$, si ha $\frac{1}{3} \pi^2 + 4 \sum_{n=1}^{\infty} \frac{1}{n^2} = f(\pi) = \pi^2$.

(iii) Da (ii) segue che $\sum_{n=1}^{\infty} \frac{1}{n^2} = \frac{\pi^2}{6}$. □

Esercizio 45.

(i) Disegnare il prolungamento periodico f della funzione $g(x) = x^4$, per $x \in (-\pi, \pi]$.

(ii) Scrivere la corrispondente serie di Fourier per f , e calcolarla per $x = \pi$.

(iii) Usare il risultato ottenuto per calcolare la somma della serie $\sum_{k=1}^{\infty} \frac{1}{k^4}$.

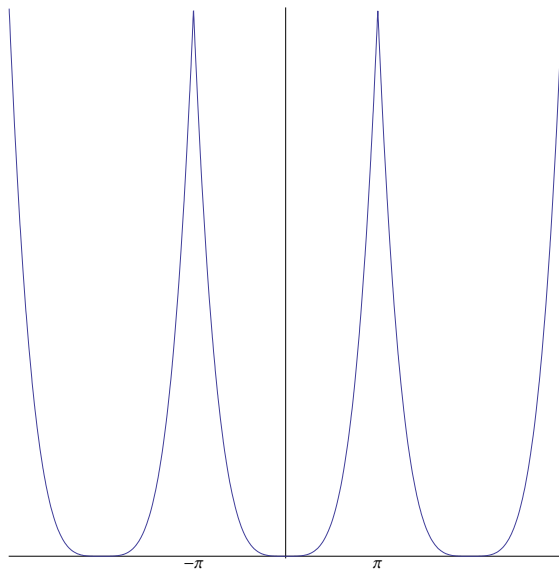


Figure 8: Grafico per l'esercizio 45

Svolgimento. (i)

(ii) Poiché f è pari, i coefficienti di Fourier b_k sono nulli. Per quanto riguarda il coefficiente a_0 :

$$a_0 = \frac{1}{\pi} \int_{-\pi}^{\pi} f(x) dx = \frac{2}{\pi} \int_0^{\pi} g(x) dx = \frac{2}{\pi} \int_0^{\pi} x^4 dx = \frac{2}{\pi} \left[\frac{1}{5} x^5 \right]_0^{\pi} = \frac{2}{5} \pi^4,$$

e per $k \geq 1$ si ottiene:

$$\begin{aligned} a_k &= \frac{1}{\pi} \int_{-\pi}^{\pi} f(x) \cos kx dx = \frac{2}{\pi} \int_0^{\pi} g(x) \cos kx dx = \frac{2}{\pi} \int_0^{\pi} x^4 \cos kx dx \\ &\stackrel{(a)}{=} \frac{2}{\pi} \left[\frac{1}{k} x^4 \sin(kx) + \frac{4}{k^2} x^3 \cos(kx) - \frac{12}{k^3} x^2 \sin(kx) - \frac{24}{k^4} x \cos(kx) + \frac{24}{k^5} \sin(kx) \right]_0^{\pi} \\ &= \frac{2}{\pi} \left(\frac{4}{k^2} \pi^3 \cos(k\pi) - \frac{24}{k^4} \pi \cos(k\pi) \right) = (-1)^k \frac{8}{k^2} \left(\pi^2 - \frac{6}{k^2} \right), \end{aligned}$$

dove in (a) si è usato il risultato $\int x^4 \cos kx dx = \frac{1}{k} x^4 \sin(kx) - \frac{4}{k^2} \int x^3 \sin(kx) dx = \frac{1}{k} x^4 \sin(kx) + \frac{4}{k^2} x^3 \cos(kx) - \frac{12}{k^3} \int x^2 \cos(kx) dx = \frac{1}{k} x^4 \sin(kx) + \frac{4}{k^2} x^3 \cos(kx) - \frac{12}{k^3} x^2 \sin(kx) + \frac{24}{k^4} \int x \sin(kx) dx = \frac{1}{k} x^4 \sin(kx) + \frac{4}{k^2} x^3 \cos(kx) - \frac{12}{k^3} x^2 \sin(kx) - \frac{24}{k^4} x \cos(kx) + \frac{24}{k^5} \sin(kx)$.

Osserviamo che f soddisfa le ipotesi del teorema di Dirichlet in ogni punto $x \in \mathbb{R}$. Per il teorema di Dirichlet, concludiamo, per ogni $x \in \mathbb{R}$,

$$f(x) = \frac{\pi^4}{5} + 8\pi^2 \sum_{n=1}^{\infty} \frac{(-1)^n}{n^2} \cos(nx) - 48 \sum_{n=1}^{\infty} \frac{(-1)^n}{n^4} \cos(nx).$$

Quindi, per $x = \pi$, si ha $\frac{\pi^4}{5} + 8\pi^2 \sum_{n=1}^{\infty} \frac{1}{n^2} - 48 \sum_{n=1}^{\infty} \frac{1}{n^4} = f(\pi) = \pi^4$.

(iii) Da (ii) segue che $48 \sum_{n=1}^{\infty} \frac{1}{n^4} = -\frac{4}{5} \pi^4 + 8\pi^2 \sum_{n=1}^{\infty} \frac{1}{n^2} = -\frac{4}{5} \pi^4 + 8\pi^2 \frac{\pi^2}{6} = \frac{8}{15} \pi^4$, per cui $\sum_{n=1}^{\infty} \frac{1}{n^4} = \frac{\pi^4}{90}$. \square

Esercizio 46. Si trovi lo sviluppo di Fourier della funzione:

$$f(x) = \begin{cases} -1 & -\pi \leq x < 0 \\ 1 & 0 \leq x < \pi . \end{cases}$$

Svolgimento. La funzione f è dispari ed ha quindi uno sviluppo di soli seni. Si ha:

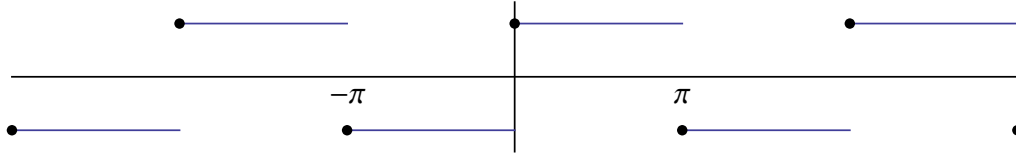


Figure 9: Grafico per l'esercizio 46

$$\begin{aligned} b_n &= - \int_{-\pi}^0 \sin nx \, dx + \int_0^{\pi} \sin nx \, dx = 2 \int_0^{\pi} \sin nx \, dx = \\ &= -\frac{2}{n} [\cos nx]_0^{\pi} = -\frac{2}{n} (\cos n\pi - 1) = \begin{cases} 0 & \text{se } n \text{ è pari} \\ \frac{4}{n} & \text{se } n \text{ è dispari} . \end{cases} \end{aligned}$$

Osserviamo che f soddisfa le ipotesi del teorema di Dirichlet in ogni punto $x \in \mathbb{R}$. Per il teorema di Dirichlet, concludiamo

$$f(x) = 4 \sum_{n=1}^{\infty} \frac{1}{2n-1} \sin((2n-1)x), \quad x \neq k\pi, \quad k \in \mathbb{Z},$$

mentre, per $x = 0$, o $x = \pi$ la somma della serie è zero. □

Esercizio 47.

(i) Disegnare il prolungamento periodico f della funzione ottenuta quale estensione pari in $[-\pi, \pi]$ della funzione $g = g(x)$ definita in $[0, \pi]$ come segue:

$$g(x) = \begin{cases} 1 & 0 \leq x \leq \frac{\pi}{2} \\ -1 & \frac{\pi}{2} < x \leq \pi. \end{cases}$$

(ii) Scrivere la corrispondente serie di Fourier per f , e calcolarla per $x = \frac{\pi}{2}$.

(iii) Usare il risultato ottenuto per calcolare la somma della serie $\sum_{k=0}^{\infty} \frac{(-1)^k}{2k+1}$.

Svolgimento. (i)

(ii) Poiché f è pari, i coefficienti di Fourier b_k sono nulli. Per quanto riguarda il coefficiente a_0 :

$$a_0 = \frac{1}{\pi} \int_{-\pi}^{\pi} f(x) \, dx = \frac{2}{\pi} \int_0^{\pi} g(x) \, dx = 0,$$

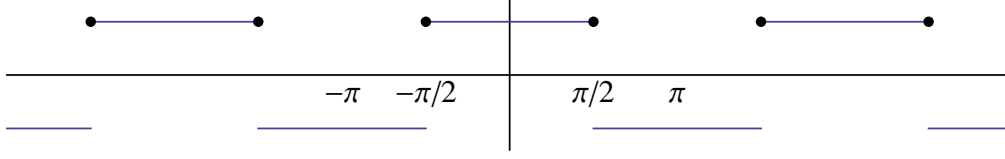


Figure 10: Grafico per l'esercizio 47

e per $k \geq 1$ si ottiene:

$$\begin{aligned}
 a_k &= \frac{1}{\pi} \int_{-\pi}^{\pi} f(x) \cos kx \, dx = \frac{2}{\pi} \int_0^{\pi} g(x) \cos kx \, dx = \\
 &= \frac{2}{\pi} \int_0^{\pi/2} \cos kx \, dx - \frac{2}{\pi} \int_{\pi/2}^{\pi} \cos kx \, dx = \\
 &= \frac{2}{\pi} \frac{1}{k} \left([\sin kx]_0^{\pi/2} - [\sin kx]_{\pi/2}^{\pi} \right) = \frac{4}{k\pi} \sin\left(\frac{k\pi}{2}\right) \\
 &= \begin{cases} 0 & k = 2n \\ (-1)^n \frac{4}{(2n+1)\pi} & k = 2n + 1. \end{cases}
 \end{aligned}$$

Osserviamo che f soddisfa le ipotesi del teorema di Dirichlet in ogni punto $x \in \mathbb{R}$. Per il teorema di Dirichlet, concludiamo

$$f(x) = \frac{4}{\pi} \sum_{n=0}^{\infty} \frac{(-1)^n}{2n+1} \cos(2n+1)x, \quad x \neq \frac{\pi}{2} + k\pi, \quad k \in \mathbb{Z},$$

mentre, per $x = \frac{\pi}{2}$ si ha $\frac{4}{\pi} \sum_{n=0}^{\infty} \frac{(-1)^n}{2n+1} \cos(2n+1)\frac{\pi}{2} = 0 = \frac{f(x^+) + f(x^-)}{2}$.

(iii) Osserviamo che $\sum_{k=0}^{\infty} \frac{(-1)^k}{2k+1} = \frac{\pi}{4} f(0) = \frac{\pi}{4}$. □

Esercizio 48. Data la funzione

$$g(x) = \begin{cases} 0 & -\pi < x \leq -\frac{\pi}{2} \\ 1 & -\frac{\pi}{2} < x < \frac{\pi}{2} \\ 0 & \frac{\pi}{2} \leq x \leq \pi \end{cases}$$

sia f il suo prolungamento 2π -periodico. Disegnare f , scrivere la serie di Fourier ad essa associata, e calcolarne la somma per $x = 1$ e $x = \frac{\pi}{2}$.

Svolgimento. Poiché f è pari si ha $b_k = 0$. Inoltre

$$a_k = \frac{1}{\pi} \int_{-\pi}^{\pi} g(x) \cos kx \, dx = \frac{2}{\pi} \int_0^{\pi/2} \cos kx \, dx = \begin{cases} 1 & k = 0 \\ \frac{2}{k\pi} [\sin kx]_0^{\pi/2} = \frac{2}{k\pi} \sin\left(k\frac{\pi}{2}\right) & k > 0. \end{cases}$$

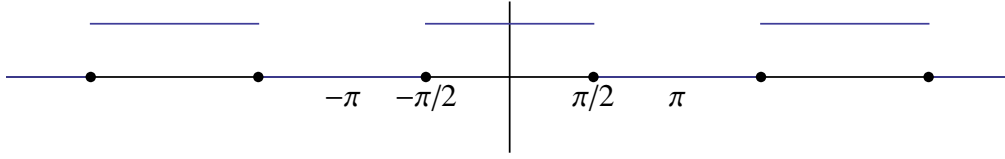


Figure 11: Grafico per l'esercizio 48

Poiché f in $x = 1$ e $x = \frac{\pi}{2}$ verifica le ipotesi del teorema di Dirichlet si ha:

$$\frac{1}{2} + \sum_{k=1}^{\infty} \frac{2}{\pi} \sin\left(k\frac{\pi}{2}\right) \cos k = f(1) = 1$$

e

$$\frac{1}{2} + \sum_{k=1}^{\infty} \frac{2}{k\pi} \sin\left(k\frac{\pi}{2}\right) \cos\left(k\frac{\pi}{2}\right) = \frac{f\left(\frac{\pi^-}{2}\right) + f\left(\frac{\pi^+}{2}\right)}{2} = \frac{1}{2}$$

essendo

$$\sin\left(k\frac{\pi}{2}\right) = \begin{cases} 0 & k = 2n \\ 1 & k = 4n + 1 \\ -1 & k = 4n + 3 \end{cases}$$

□

Esercizio 49. (i) Disegnare il prolungamento periodico f della funzione ottenuta quale estensione pari in $[-\pi, \pi]$ della funzione $g = g(x)$ definita in $[0, \pi]$ come segue:

$$g(x) = \begin{cases} \frac{\pi}{2} - x & 0 \leq x \leq \frac{\pi}{2} \\ 0 & \frac{\pi}{2} < x \leq \pi \end{cases}$$

(ii) Scrivere la corrispondente serie di Fourier per f .

Svolgimento. (i)

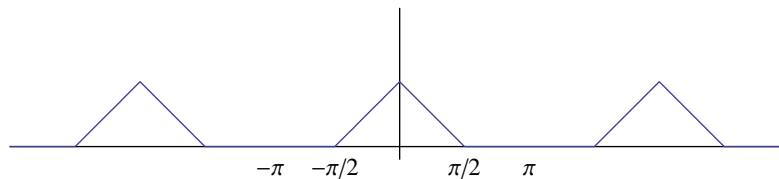


Figure 12: Grafico per l'esercizio 49

(ii) Poiché f è pari, i coefficienti di Fourier b_k sono nulli. Per quanto riguarda il coefficiente a_0 :

$$a_0 = \frac{1}{\pi} \int_{-\pi}^{\pi} f(x) dx = \frac{2}{\pi} \int_0^{\pi} g(x) dx = \frac{2}{\pi} \int_0^{\pi/2} \left(\frac{\pi}{2} - x\right) dx = \frac{\pi}{4}$$

e per $k \geq 1$ si ottiene:

$$\begin{aligned}
 a_k &= \frac{1}{\pi} \int_{-\pi}^{\pi} f(x) \cos kx \, dx = \frac{2}{\pi} \int_0^{\pi} g(x) \cos kx \, dx = \\
 &= \frac{2}{\pi} \int_0^{\pi/2} \left(\frac{\pi}{2} - x \right) \cos kx \, dx = \\
 (\text{per parti}) &= \frac{2}{\pi} \frac{1}{k} \left(\left[\left(\frac{\pi}{2} - x \right) \sin kx \right]_0^{\pi/2} + \int_0^{\pi/2} \sin kx \, dx \right) = \\
 &= - \left[\frac{2}{\pi} \frac{1}{k^2} \cos kx \right]_0^{\pi/2}
 \end{aligned}$$

e quindi

$$a_k = \frac{2}{\pi} \frac{1}{k^2} \left(1 - \cos k \frac{\pi}{2} \right) = \begin{cases} \frac{2}{\pi(2n+1)^2} & k = 2n + 1 \\ \frac{2}{\pi(2n)^2} (1 - (-1)^n) & k = 2n \end{cases}$$

Poiché f è continua e soddisfa tutte le ipotesi del teorema di Dirichlet, concludiamo

$$\begin{aligned}
 f(x) &= \frac{\pi}{8} + \sum_{k=1}^{\infty} a_k \cos kx = \\
 &= \frac{\pi}{8} + \frac{2}{\pi} \left(\sum_{n=0}^{\infty} \frac{1}{(2n+1)^2} \cos(2n+1)x + \sum_{n=1}^{\infty} \frac{1}{(2n)^2} (1 - (-1)^n) \cos 2nx \right).
 \end{aligned}$$

□

Esercizio 50.

- (i) Disegnare il prolungamento periodico f della funzione $g(x) = e^x$, per $x \in (-\pi, \pi]$.
- (ii) Scrivere la corrispondente serie di Fourier per f , e calcolarla per $x = 0$ e $x = \pi$.
- (iii) Usare il risultato ottenuto per calcolare la somma della serie $\sum_{k=1}^{\infty} \frac{(-1)^k}{k^2 + 1}$.

Svolgimento. (i)

(ii) Calcoliamo i coefficienti di Fourier c_k in forma complessa. Si ha, per ogni $k \in \mathbb{Z}$,

$$\begin{aligned}
 c_k &= \frac{1}{2\pi} \int_{-\pi}^{\pi} f(x) e^{-ikx} \, dx = \frac{1}{2\pi} \int_{-\pi}^{\pi} g(x) e^{-ikx} \, dx = \frac{1}{2\pi} \int_{-\pi}^{\pi} e^{(1-ik)x} \, dx \\
 &= \frac{1}{2\pi} \left[\frac{1}{1-ik} e^{(1-ik)x} \right]_{-\pi}^{\pi} \\
 &= \frac{1}{2\pi(1-ik)} \left(e^{(1-ik)\pi} - e^{-(1-ik)\pi} \right) = (-1)^k \frac{1}{2\pi} \left(e^{\pi} - e^{-\pi} \right) \frac{1}{1-ik},
 \end{aligned}$$

da cui segue che $a_0 = 2c_0 = \frac{e^{\pi} - e^{-\pi}}{\pi}$, $a_k = c_k + c_{-k} = (-1)^k \frac{1}{2\pi} \left(e^{\pi} - e^{-\pi} \right) \left(\frac{1}{1-ik} + \frac{1}{1+ik} \right) = (-1)^k \frac{1}{2\pi} \left(e^{\pi} - e^{-\pi} \right) \frac{2}{k^2 + 1}$, e $b_k = i(c_k - c_{-k}) = (-1)^k \frac{1}{2\pi} \left(e^{\pi} - e^{-\pi} \right) \left(\frac{i}{1-ik} - \frac{i}{1+ik} \right) = (-1)^k \frac{1}{2\pi} \left(e^{\pi} - e^{-\pi} \right) \frac{-2k}{k^2 + 1}$.

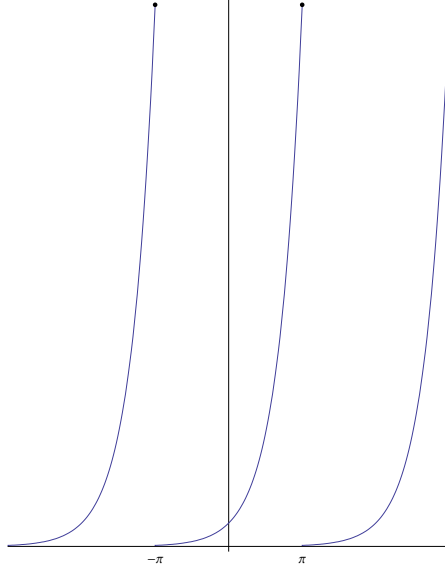


Figure 13: Grafico per l'esercizio 50

Osserviamo che f soddisfa le ipotesi del teorema di Dirichlet in ogni punto $x \in \mathbb{R}$. Per il teorema di Dirichlet, concludiamo, per ogni $x \in \mathbb{R}$,

$$f(x) = \frac{e^\pi - e^{-\pi}}{2\pi} + \frac{e^\pi - e^{-\pi}}{\pi} \sum_{n=1}^{\infty} \frac{(-1)^n}{n^2 + 1} (\cos(nx) - n \sin(nx)).$$

Quindi, per $x = 0$, si ha $\frac{e^\pi - e^{-\pi}}{2\pi} + \frac{e^\pi - e^{-\pi}}{\pi} \sum_{n=1}^{\infty} \frac{(-1)^n}{n^2 + 1} = f(0) = 1$.

Mentre, per $x = \pi$, si ha $\frac{e^\pi - e^{-\pi}}{2\pi} + \frac{e^\pi - e^{-\pi}}{\pi} \sum_{n=1}^{\infty} \frac{1}{n^2 + 1} = \frac{f(x^+) + f(x^-)}{2} = \frac{e^\pi + e^{-\pi}}{2}$.

(iii) Da (ii) segue che $\sum_{n=1}^{\infty} \frac{(-1)^n}{n^2 + 1} = \frac{\pi}{e^\pi - e^{-\pi}} - \frac{1}{2}$. □

Esercizio 51. (i) Dopo aver disegnato l'estensione periodica della funzione

$$f(x) = 1 - |\sin x| \quad x \in \left[-\frac{\pi}{2}, \frac{\pi}{2}\right]$$

specificandone il periodo T , calcolare la corrispondente serie di Fourier.

(ii) Calcolare la somma della serie:

$$\sum_{k=1}^{\infty} \frac{1}{4k^2 - 1}.$$

Svolgimento. (i) $f(x) = 1 - |\sin x| \quad x \in \left[-\frac{\pi}{2}, \frac{\pi}{2}\right]$:

\tilde{f} è periodica di periodo $T = \pi$, continua e soddisfa *tutte* le ipotesi del teorema di Dirichlet.

Poiché f è pari, $b_k \equiv 0$ e quindi

$$\tilde{f}(x) = \frac{a_0}{2} + \sum_{k=1}^{\infty} a_k \cos 2kx$$

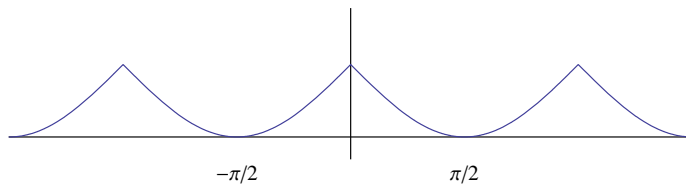


Figure 14: Grafico per l'esercizio 51

dove, tenendo ancora conto che f è pari,

$$a_k = \frac{2}{\pi} \int_{-\pi/2}^{\pi/2} (1 - |\sin x|) \cos 2kx \, dx = \frac{4}{\pi} \int_0^{\pi/2} (1 - \sin x) \cos 2kx \, dx$$

e quindi

$$a_0 = \frac{4}{\pi} \int_0^{\pi/2} (1 - \sin x) \, dx = \frac{4}{\pi} \left(\frac{\pi}{2} - 1 \right) = 2 - \frac{4}{\pi}$$

e, se $k \geq 1$

$$a_k = \frac{4}{\pi} \left(\left[\frac{1}{2k} \sin 2kx \right]_0^{\pi/2} - \int_0^{\pi/2} \sin x \cos(2kx) \, dx \right).$$

Per valutare

$$\int_0^{\pi/2} \sin x \cos(2kx) \, dx$$

si ricordano le formule:

$$\sin x \cos 2kx = \frac{1}{2} [\sin(2k+1)x + \sin(1-2k)x]$$

da cui si ha

$$\begin{aligned} \int_0^{\pi/2} \sin x \cos(2kx) \, dx &= \\ &= -\frac{1}{2} \left[\frac{1}{2k+1} \cos(2k+1)x - \frac{1}{2k-1} \cos(1-2k)x \right]_0^{\pi/2} = \\ &= \frac{1}{2} \left(\frac{1}{2k+1} - \frac{1}{2k-1} \right) = -\frac{1}{4k^2-1}. \end{aligned}$$

Si ottiene quindi, per ogni $k \geq 1$,

$$a_k = \frac{4}{\pi} \frac{1}{4k^2-1}$$

e di conseguenza:

$$\tilde{f}(x) = 1 - \frac{2}{\pi} + \frac{4}{\pi} \sum_{k=1}^{\infty} \frac{1}{4k^2-1} \cos 2kx$$

(ii) Per $x = 0$ si ottiene:

$$1 = f(0) = \tilde{f}(0) = 1 - \frac{2}{\pi} + \frac{4}{\pi} \sum_{k=1}^{\infty} \frac{1}{4k^2-1}$$

da cui

$$\sum_{k=1}^{\infty} \frac{1}{4k^2 - 1} = \frac{1}{2}.$$

Questo risultato si poteva anche ottenere osservando che $\sum \frac{1}{4k^2 - 1}$ è una serie telescopica, infatti:

$$\sum_{k=1}^n \frac{1}{4k^2 - 1} = -\frac{1}{2} \sum_{k=1}^n \left(\frac{1}{2k+1} - \frac{1}{2k-1} \right) = -\frac{1}{2} \sum_{k=1}^n (a_k - a_{k-1})$$

con $a_k = \frac{1}{2k+1}$ ($k = 0, 1, 2, \dots$). Si ottiene quindi:

$$\sum_{k=1}^n \frac{1}{4k^2 - 1} = -\frac{1}{2}(a_n - a_0) = \frac{1}{2} \left(1 - \frac{1}{2n+1} \right) \rightarrow \frac{1}{2}, \quad (n \rightarrow +\infty).$$

□

Esercizio 52.

- (i) Disegnare il prolungamento 2-periodico f della funzione $g(x) = 1 - x^2$, per $x \in (-1, 1]$.
- (ii) Scrivere la corrispondente serie di Fourier per f , e calcolarla per $x = 0$.
- (iii) Usare il risultato ottenuto per calcolare la somma della serie $\sum_{k=1}^{\infty} \frac{(-1)^k}{k^2}$.

Svolgimento. (i)

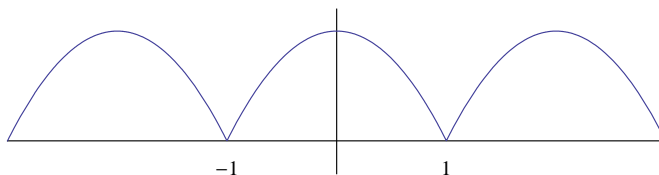


Figure 15: Grafico per l'esercizio 52

- (ii) Poiché f è pari, i coefficienti di Fourier b_k sono nulli. Per quanto riguarda il coefficiente a_0 :

$$a_0 = \int_{-1}^1 f(x) dx = 2 \int_0^1 (1 - x^2) dx = 2 \left[x - \frac{1}{3}x^3 \right]_0^1 = \frac{4}{3},$$

e per $k \geq 1$ si ottiene:

$$\begin{aligned} a_k &= \int_{-1}^1 f(x) \cos(k\pi x) dx = 2 \int_0^1 (1 - x^2) \cos(k\pi x) dx \\ &\stackrel{(a)}{=} 2 \left[\frac{1}{k\pi} \sin(k\pi x) - \frac{1}{k\pi} x^2 \sin(k\pi x) - \frac{2}{k^2\pi^2} x \cos(k\pi x) + \frac{2}{k^3\pi^3} \sin(k\pi x) \right]_0^1 \\ &= -2 \frac{2}{k^2\pi^2} \cos(k\pi) = (-1)^{k+1} \frac{4}{k^2\pi^2}, \end{aligned}$$

dove in (a) si è usato il risultato $\int x^2 \cos(k\pi x) dx = \frac{1}{k\pi} x^2 \sin(k\pi x) - \frac{2}{k\pi} \int x \sin(k\pi x) dx = \frac{1}{k\pi} x^2 \sin(k\pi x) + \frac{2}{k^2\pi^2} x \cos(k\pi x) - \frac{2}{k^3\pi^3} \sin(k\pi x)$.

Osserviamo che f soddisfa le ipotesi del teorema di Dirichlet in ogni punto $x \in \mathbb{R}$. Per il teorema di Dirichlet, concludiamo, per ogni $x \in \mathbb{R}$,

$$f(x) = \frac{2}{3} - \frac{4}{\pi^2} \sum_{n=1}^{\infty} \frac{(-1)^n}{n^2} \cos(n\pi x).$$

Quindi, per $x = 0$, si ha $\frac{2}{3} - \frac{4}{\pi^2} \sum_{n=1}^{\infty} \frac{(-1)^n}{n^2} = f(0) = 1$.

(iii) Da (ii) segue che $\sum_{n=1}^{\infty} \frac{(-1)^n}{n^2} = -\frac{\pi^2}{12}$. □

4.3 Esercizi proposti

Esercizio 53. Disegnare il prolungamento T -periodico f delle seguenti funzioni g , definite in $(-T/2, T/2]$ e scrivere la corrispondente serie di Fourier per f

(1) $g(x) = \cos^2 x$, con $T = 2\pi$,

(2) $g(x) = \sin x \cos x$, con $T = 2\pi$,

(3) $g(x) = \begin{cases} 4 & |x| \leq \frac{\pi}{2} \\ 0 & \frac{\pi}{2} < |x| \leq \pi, \end{cases}$ con $T = 2\pi$,

(4) $g(x) = 1 - \frac{2|x|}{\pi}$, con $T = 2\pi$,

(5) $g(x) = x \cos x$, con $T = 2\pi$,

(6) $g(x) = x \sin x$, con $T = 2\pi$,

(7) $g(x) = \begin{cases} 0 & x \in (-\pi, 0) \\ \sin x & x \in [0, \pi], \end{cases}$ con $T = 2\pi$,

(8) $g(x) = \begin{cases} \cos(2x) & |x| \leq \pi/2 \\ -1 & \pi/2 < |x| \leq \pi, \end{cases}$ con $T = 2\pi$,

(9) $g(x) = x(1 - 2|x|)$, con $T = 1$,

(10) $g(x) = \begin{cases} -1 & -2 < x < 0 \\ 0 & x = 0 \\ 1 & 0 < x \leq 2, \end{cases}$ con $T = 4$,

(11) $g(x) = \begin{cases} 0 & 1 < |x| < 2 \\ 1 & |x| \leq 1, \end{cases}$ con $T = 4$,

(12) $g(x) = \begin{cases} -3 - x & -3 < x < -1 \\ 2x & -1 \leq x \leq 1 \\ 3 - x & 1 < x \leq 3, \end{cases}$ con $T = 6$.